


توقف برای کدام وسیله نقلیه مجاز است؟



- 1 فقط موتور سیکلت.
- 2 فقط کامیون.
- 3 فقط خودرو سواری سبک.
- 4 خودرو سواری سبک و موتور سیکلت.
- 5 تمامی وسایل نقلیه.

پاسخ : 4

توقف در کدام موارد زیر ممنوع است؟

- 1 روی پل ها، سازه های هوایی و پل های هوایی.
- 2 زیر پل ها، سازه های هوایی و پل های هوایی.
- 3 در همه گزینه های قید شده.

پاسخ : 3


آیا پیاده کردن مسافر در نقطه ای از جاده که بر سطح فوقانی جدول های حاشیه ای خط ممتد («توقف و ایستادن ممنوع است») «توقف مطلقاً ممنوع» زرد رنگ خط کشی شده و علامت نصب شده، مجاز است؟



- 1 مجاز است.
- 2 ممنوع است.
- 3 مجاز است در صورت نبود وسایل نقلیه عمومی.
- 4 مجاز است فقط برای وسایل نقلیه عمومی.

پاسخ : 2

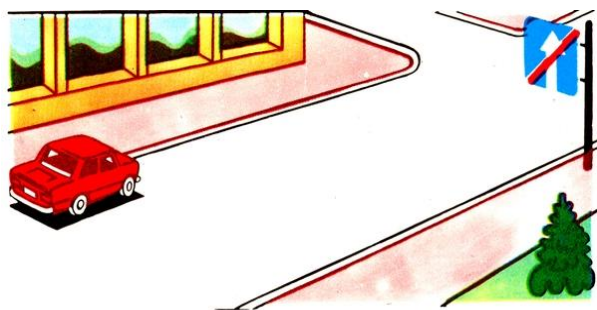
آیا علامت ممنوعه بخشی از جاده را که راننده ایستاده شامل می شود؟



- 1 شامل می شود.
- 2 شامل نمی شود.

پاسخ : 1

آیا توقف خودرو در نقطه قید شده مجاز است؟



- 1 مجاز است.
- 2 ممنوع است.

پاسخ : 1

توقف وسایل نقلیه در فاصله چند متری تقاطع هم سطح با راه آهن ممنوع است؟

- 1 متری 300 فاصله.
- 2 متری 150 فاصله.
- 3 متری 100 فاصله.
- 4 متری 50 فاصله.
- 5 متری 25 فاصله.

پاسخ : 5

آیا در این حالت ایستادن برای پیاده کردن مسافر مجاز است؟



1. مجاز است چنانچه این اقدام مانعی برای تردد وسایل نقلیه عمومی ایجاد نکند.
2. ممنوع است.

پاسخ : 1

کدامیک از رانندگان موظف به توقف است؟



1. راننده خودرو سواری سبک.
2. راننده اتوبوس.
3. هر دو راننده.

پاسخ : 1

این خط کثی جاده تردد در کدام مسیر را مجاز می شمارد؟



1. فقط به سمت چپ.
2. به سمت چپ و مسیر برعکس.
3. فقط در مسیر برعکس.
4. مستقیم، چپ و در مسیر برعکس.

پاسخ : 2


توقف کدام وسایل نقلیه در خط ترافیک محدوده این علامت جاده ای مجاز است؟



1. فقط وسایل نقلیه عمومی.
2. آن دسته از وسایل نقلیه ای که معلولین رانندگی آنها را بعهده دارند و تاکسی های با تاکسی .
3. متری روشن

پاسخ : 2

این خط کثی جاده ای به چه معنی است؟



1. محل سوار و پیاده کردن مسافر.
2. ایستگاه وسایل نقلیه عمومی.
3. ایستگاه وسایل نقلیه عمومی و توقفگاه تاکسی ها.

پاسخ : 2

خط ممتد زرد رنگ خط کثی افقی نشانگر چیست؟



1. جایی که ایستادن و توقف وسایل نقلیه در آنجا ممنوع است.
2. جایی که ایستادن در آنجا جهت پیاده کردن مسافرین یا تخلیه بار وسیله نقلیه مجاز است.
3. جایی که توقف وسایل نقلیه ممنوع است.

پاسخ : 1

تردد در کدام جهات ترسیم شده با پیکان ها مجاز است؟



- 1 فقط در مسیر مستقیم.
- 2 به سمت چپ و مسیر برعکس.
- 3 در مسیر مستقیم، به سمت چپ و در مسیر برعکس.

پاسخ : 1


آیا عبور از خط ممتد خط کثی تعیین کننده حدود مکان های توقف وسایل نقلیه برای راننده مجاز است؟



- 1 ممنوع است.
- 2 مجاز است.

پاسخ : 2


دو خط ممتد (جاده ای که جریان های حمل و نقلی لاین های مقابل با خطوط ممتد مضاعف از هم جدا می شوند، چند خط عبور دارد؟ (کنار هم



- 1 دو خط عبور.
- 2 دو یا سه خط عبور.
- 3 سه خط عبور.
- 4 چهار خط عبور و بیشتر.

پاسخ : 4

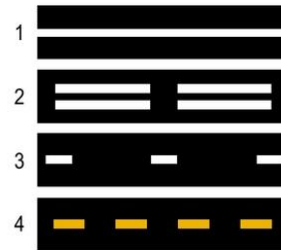
این خط کثی نشانگر چیست؟



- 1 گذرگاه عابر پیاده که تردد در آنجا بوسیله چراغ راهنمایی کنترل می شود.
- 2 جایی که مسیر عبور دوچرخه با بخش تردد جاده در تلاقی است.
- 3 جایی که مسیر عبور عابر پیاده با بخش تردد جاده در تلاقی است.

پاسخ : 2

reverse/کدامیک از این خطوط خط کثی برای قید خطوط عبور ترافیک برگشت پذیر بکار می رود؟/ traffic



- 1 خط اول.
- 2 خط دوم.
- 3 خط سوم.
- 4 خطوط دوم و سوم.
- 5 خطوط سوم و چهارم.

پاسخ : 2

پیکان های خط کثی شده بر روی بخش تردد درباره چه چیزی هشدار می دهند؟



- 1 به راننده درباره نزدیک شدن به بخش خطرناک جاده هشدار می دهند.
- 2 درباره نزدیک شدن به پایان خط عبور تردد هشدار می دهند.
- 3 مسیر گردش خطرناک جاده را نشان می دهند.

پاسخ : 2

خط ممتد زرد رنگ تعیین کننده مکان های ایستادن و توقف ممنوع کجا ترسیم می شوند؟



- 1 بر روی بخش تردد.
- 2 نزدیک به حاشیه بخش تردد.
- 3 نزدیک به حاشیه بخش تردد یا سطح فوقانی سنگ جدول.
- 4 فقط بر روی سطح فوقانی سنگ جدول.

پاسخ : 3

زرد رنگ به همراه کدامیک از علائم جاده ای می تواند بکار (مقطع) خط کشی بریده بریده رود؟



- 1 (توقف مطلقاً ممنوع) ایستادن ممنوع .
- 2 توقف ممنوع.
- 3 توقف در روزهای فرد هر ماه ممنوع است.

پاسخ : 2

تردد در خط عبور راست بخش تردد برای کدام وسایل نقلیه مجاز است؟



- 1 تمامی وسایل نقلیه موتوری.
- 2 وسایل نقلیه عمومی و تاکسی ها.
- 3 فقط دوچرخه ها.
- 4 فقط وسایل نقلیه عمومی.

پاسخ : 4

این خط کشی جاده ای به چه معنی است؟



- 1 مکان های توقف کنار پیاده رو را نشان می دهد که در آن شیوه های پارک کردن وسایل نقلیه .
- 2 مکانی هایی را نشان می دهد که ایستادن وسایل نقلیه موتوری در آنجا ممنوع .
- 3 ایستگاه های وسایل نقلیه عمومی و .
- 3 توقفگاه های تاکسی ها را نشان می دهد .

پاسخ : 3


این خط کشی جاده ای افقی نشانگر چیست؟



- 1 باریک شدن بخش تردد که در آنجا تعداد خطوط عبور تردد در مسیر مزبور کاسته می . شود
- 2 جایی که راننده باید در صورت لزوم بایستد .
- 3 تا حق تقدم وسایل نقلیه در حال تردد در مسیر متقاطع را رعایت کند
3. نزدیک می شوید (توقف مطلقاً ممنوع) به نقطه ایستادن ممنوع .

پاسخ : 2

آیا ورود به محدوده خطوط هاشور خط کشی شده با خطوط پهن سفید مجاز است؟



- 1 فقط برای ایستادن مجاز است.
- 2 موقع حرکت با دنده عقب مجاز است.
- 3 ممنوع است.

پاسخ : 3

این خط کشی نشانگر چیست؟



1. گذرگاه عابر پیاده.

2. مکانی که مسیر عبور دو چرخه سوار با بخش تردد جاده در تلاقی است.  
3. مکان پیش بینی شده برای عبور دادن دام ها.


پاسخ : 2

و علامت سبز «خط ممتد ایست» راننده هنگام نزدیک شدن به تقاطع در شرایط خط کشی چراغ راهنمایی، چطور باید عمل کند؟

1. بایستد و پس از آن مجدداً حرکت کند «خط ممتد ایست» در نزدیکی .  
2. به عبور از تقاطع بدون ایستادن ادامه دهد.

پاسخ : 2

این خط کشی به چه معنا است؟



1. خط عبور پیش بینی شده برای تردد وسایل نقلیه عمومی.

2. خط عبور پیش بینی شده برای تردد خودروهای دارای اهمیت ویژه.  
در آنجا اعمال می / reverse traffic/ نشانگر حدود ترددی است که ترافیک برگشت پذیر .  
3. شود

پاسخ : 3

راننده در صورت وجود این خط کشی کجا باید وسیله نقلیه را متوقف سازد؟



1. در نزدیکی خط کشی.

2. بر روی خط کشی.  
3. متری خط کشی 5 در فاصله حداقل .

پاسخ : 1

آیا مجاز است در صورت وجود این خط کشی راننده اتوبوس در حال حرکت در مسیر شود؟ «A» گردشگری وارد خط عبور با خط کشی



1. مجاز است.  
2. ممنوع است.

پاسخ : 1

آیا انجام دور برگردان در نقطه قید شده مجاز است؟



1. مجاز است.  
2. ممنوع است.

پاسخ : 1


برای کدام خودرو ایستادن در خط عبور حیطه این علائم مجاز است؟



- 1 خودرو قرمز رنگ.
- 2 برای هر دو خودرو.
- 3 برای هیچ یک از خودروها.
- 4 «راننده معلول» برای خودرو زرد رنگ مجهز به برجسب .

پاسخ : 4

خط کشی به شکل خط پهن مقطع نشانگر چیست؟



- 1 مرز موجود بین بخش تردد و شانه جاده.
- 2 مرز موجود بین خط عبور اصلی بخش تردد و خط ازدیاد سرعت .
- 3 مرز موجود بین خط عبور اصلی بخش تردد و خط تقلیل سرعت .

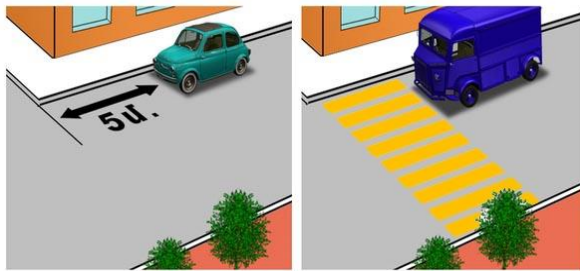
پاسخ : 2

کدامیک در حکم علامت ایستگاه قطار عمل می کند؟

- 1 (خوبی قابل رؤیت باشد، در ساعات شب با مشعل یا فانوس
- 2 دستی که با پرچم قرمز رنگ یا صفحه دیسک بالای سر بالا برده باشد.
- 3 دستی که به جلو امتداد یافته باشد.
- 4 دستی که به جلو امتداد یافته و به بالا و پایین در نوسان است.

پاسخ : 1

در کدام تصویر راننده برای پیاده کردن مسافرین درست ایستاده است؟



1

2

- 1 تصویر سمت چپ.
- 2 در هر دو تصویر.
- 3 تصویر سمت راست.

پاسخ : 1

باید وسیله نقلیه «تردد بدون ایستادن ممنوع است» یا «خط ایست» در چه فاصله ای از علامت برای رعایت حق تقدم قطاری که نزدیک می شود بایستد؟

- 1 متری 1,5 فاصله .
- 2 متری 2,5 فاصله .
- 3 متری 5 فاصله .
- 4 متری 10 فاصله .
- 5 یا علامت و «خط ایست» بلافاصله در جوار .

پاسخ : 5

در اماکن مسکونی ایستادن و توقف در سمت چپ جاده های دارای یک خط عبور در هر سو و بدون خطوط تراموا در قسمت میانی

- 1 مجاز است.
- 2 ممنوع است.

پاسخ : 1



آیا ایستادن خودرو در این نقطه مجاز است؟



1. متر است 3 ممنوع است زیرا فاصله بین خط مقطع خط کشی و وسیله نقلیه ایستاده کمتر از .
2. برای ایام زوج هر ماه ممنوع است.
3. مجاز است.

پاسخ : 3


آیا ایستادن دز محل قید شده مجاز است؟



1. مجاز است.
2. ممنوع است.

پاسخ : 2

راننده کدام وسیله نقلیه مقررات توقف را نقض کرده است؟



1. راننده خودرو آبی رنگ.
2. راننده خودرو قرمز رنگ.
3. هر دو راننده تخلف کرده اند.
4. هر دو راننده هم تخلف نکرده اند.


پاسخ : 3

خارج از اماکن مسکونی کجا توقف بمنظور استراحت درازمدت، گذرانندن شب و سایر موارد مجاز است؟

1. بر روی شانه های جاده.
2. در میدانی منظور شده برای توقف یا خارج از حدود جاده.
3. در سمت راست بخش تردد بدون مانع تراشی برای تردد وسایل نقلیه دیگر.
4. در سمت چپ جاده و با تأمین امنیت تردد جاده ای.

پاسخ : 2

ایستادن ممنوع است اگر فاصله بین خط ممتد و وسیله نقلیه ایستاده



1. متر 6 برابر است با .
2. متر 5.5 برابر است با .
3. متر 4 برابر است با .
4. متر 3.5 برابر است با .
5. متر 2.5 برابر است با .


پاسخ : 5

چنانچه تردد از محل تقاطع هم سطح با راه آهن ممنوع است و چراغ راهنمایی، علائم جاده ای، خط کشی و راهنند وجود ندارند، در این صورت راننده باید کجا بایستد؟

1. متری نزدیکترین ریل 5 در فاصله حداقل .
2. متری نزدیکترین ریل 7 در فاصله حداقل .
3. متری نزدیکترین ریل 10 در فاصله حداقل .

پاسخ : 3

در کدام گزینه رانندگانی که مقررات ایستادن را نقض کرده اند درست قید شده است؟



- 1 رانندگان خودرو قرمز رنگ و موتور سیکلت.
- 2 راننده خودرو آبی رنگ.
- 3 راننده موتور سیکلت.
- 4 رانندگان تمامی وسایل نقلیه.

پاسخ : 4

توقف وسایل نقلیه در فاصله چند متری تقاطع هم سطح با راه آهن ممنوع است؟

- 1 متری 15 فاصله .
- 2 متری 50 فاصله .
- 3 متری 100 فاصله .
- 4 متری 150 فاصله .

پاسخ : 1

رانندگان کدام وسایل نقلیه برای پیاده کردن مسافرین اشتباه ایستاده اند؟



- 1 راننده خودرو سواری سبک.
- 2 راننده موتور سیکلت.
- 3 راننده اتوبوس.
- 4 رانندگان موتور سیکلت و اتوبوس.
- 5 همه رانندگان.

پاسخ : 4

چنانچه تردد از محل تقاطع هم سطح با راه آهن ممنوع است و چراغ راهنمایی، علائم جاده ای و خط کشی وجود ندارند، در این صورت راننده باید کجا بایستد؟

- 1 متری راهبند 5 حداقل در فاصله .
- 2 متری راهبند 3 حداقل در فاصله .
- 3 بلافاصله قبل از راهبند.

پاسخ : 1

برای اتوبوس گردشگری مجاز است؟ «A» آیا تردد در خط عبور خط کشی شده با علامت



- 1 ممنوع است.
- 2 مجاز است.

پاسخ : 1

خط کشی شده در خط عبور بخش تردد به چه معنا است؟ «A» حرف



- 1 (مسیر تردد) شماره جاده .
- 2 خط ویژه منظور شده برای تردد وسایل نقلیه عمومی.
- 3 «A» خط ویژه منظور شده برای تردد وسایل نقلیه رده .

پاسخ : 2



آیا ادامه تردد در مسیری که با پیکان ترسیم شده مجاز است؟



1. ممنوع است.
2. در همه حال مجاز است.
3. مجاز است برای ایستادن جهت پیاده کردن مسافری.
4. برای کامیون بمنظور سبقت گرفتن مجاز است.

پاسخ : 3

آیا ایستادن وسیله نقلیه برای پیاده کردن مسافرین در نقطه قید شده مجاز است؟



1. مجاز است.
2. ممنوع است.
3. مجاز است اما با بلند شدن روی پیاده رو.

پاسخ : 2

راننده خودرو سواری سبک چطور باید عمل کند اگر راننده اتوبوس شروع به ترمز کرده است؟



1. به حرکت خود ادامه دهد.
2. سرعت را آهسته کرده و در صورت لزوم بایستد و وقتی یقین حاصل کرد که عابرین پیاده بر روی گذرگاه حضور ندارند، به حرکت ادامه دهد.
3. بایستد و تنها در صورتی به حرکت ادامه دهد که اتوبوس حرکت را از سر گیرد.

پاسخ : 2

با چنین خط کشی عمودی به چه موردی اشاره می شود؟



1. حاشیه های پایین پل، تونل.
2. ورودی تونل های بدون روشنایی.
3. هر عنصر و جزئی از ساختمان های جاده ای که برای تردد خطر آفرین است.

پاسخ : 1

70 خودرو سواری سبک با سرعت راننده اتوبوس برای سوار کردن مسافرین ایستاده است راننده کدام وسیله نقلیه بندهای مقررات راهنمایی و رانندگی ساعت در حرکت است/کیلومتر را نقض می کند؟



1. هیچ یک از آنها.
2. راننده اتوبوس.
3. راننده خودرو سواری سبک.
4. هر دو راننده.

پاسخ : 1

از میان گزینه های زیر در کدام حالت راننده اتوبوس می تواند وارد خط عبور وسط جاده دارای سه خط عبور برای تردد دوطرفه شود، که برای تردد در دو جهت از آن استفاده می شود؟



1. بمنظور سبقت گرفتن یا دور زدن مانع.
2. بمنظور انجام گردش به چپ یا دور برگردان.
3. در هر دو حالت یاد شده.
4. هیچ یک از گزینه ها درست نیست.

پاسخ : 3

راننده در این وضعیت کجا باید بایستد؟



1. ایستادن الزامی نیست.
2. چراغ راهنمایی (جلوی)مقابل .
- 3 «خط ایست» خط کثیفی (جلوی)مقابل .
- 4 تقاطع خطوط تردد (جلوی)مقابل .

پاسخ : 3

راننده خودرو سواری سبک در این اتوبوس بمنظور رعایت حق تقدم عابر پیاده ایستاده است حالت آیا بندهای مقررات راهنمایی و رانندگی را نقض می کند؟



1. نقض می کند.
2. نقض نمی کند.

پاسخ : 1

آیا ایستادن در محل قید شده جهت سوار کردن مسافرین توسط راننده اتوبوسی که بطور منظم اقدام به حمل مسافر می کند، مجاز است؟



1. ممنوع است.
2. مجاز است.

پاسخ : 1

راننده اتوبوس گردشگری آیا حق دارد بمنظور استراحت طولانی مدت در محل قید شده بایستد؟



1. حق ندارد.
2. حق دارد.

پاسخ : 1

برای ادامه تردد به سمت چپ راننده اتوبوس بمنظور رعایت حق تقدم خودرو سواری سبک کجا باید بایستد؟



1. علامت جاده ای (جلوی)مقابل .
2. در نزدیکی خط کثیفی.
3. بر حسب صلاحدید راننده، در جایی امن.

پاسخ : 2

در این وضعیت کجا باید ایستاد؟



1. در جوار اولین علامت جاده ای.
- 2 «خط ایست» خط کثیفی (جلوی)مقابل .
3. در جوار دومین علامت جاده ای.
4. ایستادن الزامی نیست.

پاسخ : 2



در حیطة عملکرد این علامت ایستادن برای کدام وسایل نقلیه مجاز است؟



- 1 فقط برای وسایل نقلیه عمومی.
- 2 فقط برای وسایل نقلیه ای که افراد معلول رانندگی آنها را بعهده دارند.
- 3 فقط برای تاکسی های با تاکسی متر روشن .
- 4 برای همه ممنوع است.

پاسخ : 4

آیا در حیطة عملکرد علائم جاده ای یاد شده ایستادن برای سوار کردن مسافری مجاز است؟



- 1 ممنوع است.
- 2 مجاز است.

پاسخ : 1

برای کدام وسایل نقلیه است؟ «A» خط عبور جدا شده و خط کشی شده با حرف



- 1 فقط برای اتوبوس هایی که در مسیر تعیین شده حرکت می کنند.
- 2 برای اتوبوس های برقی و تاکسی ها.
- 3 برای وسایل نقلیه عمومی.

پاسخ : 3

آیا ایستادن و توقف اتوبوس ها در سمت چپ بخش تردد اماکن مسکونی، در جاده های یکطرفه، مجاز است؟

- 1 مجاز است.
- 2 ممنوع است.
- 3 فقط برای ایستادن مجاز است.

پاسخ : 1

آیا خارج از محوطه ایستگاه ها ایستادن برای وسایل نقلیه عمومی مجاز است؟

- 1 ممنوع است.
- 2 مجاز است.

پاسخ : 1

ساختمان ها مجاز است؟ (حیاط) آیا توقف اتوبوس ها در مناطق مسکونی و محوطه

- 1 ممنوع است.
- 2 در نقاط پیش بینی شده بدین منظور مجاز است.
- 3 مجاز است.

پاسخ : 2

آیا توقف در این حالت مجاز است؟



- 1. بلی.
- 2. فقط در ساعات روشن روز.
- 3. خیر.

پاسخ : 3

آیا ایستادن در محل قید شده مجاز است؟



- 1. بلی.
- 2. خیر.

پاسخ : 1

آیا در حالت قید شده ایستادن بمنظور سوار کردن مسافر مجاز است؟



- 1. بلی.
- 2. خیر.

پاسخ : 2

آیا ایستادن در مکان قید شده مجاز است؟



- 1. بلی.
- 2. ممنوع است.
- 3. فقط بمنظور سوار کردن مسافر.

پاسخ : 2

توقف کردن در کدام موارد ممنوع است؟

- 1. در تقاطع هم سطح با راه آهن.
- 2. متری نزدیک تقاطع هم سطح 50 در تقاطع با راه آهن و در فاصله .
- 3. متری قبل از تقاطع هم سطح 50 در تقاطع هم سطح با راه آهن و فاصله .

پاسخ : 2

در کدام موارد ایستادن ممنوع است؟

- 1. در تقاطع هم سطح با راه آهن.
- 2. متری نزدیک تقاطع هم سطح 50 در تقاطع با راه آهن و در فاصله .
- 3. متری قبل از تقاطع هم سطح 50 در تقاطع هم سطح با راه آهن و فاصله .

پاسخ : 1

آیا مجبور به رعایت حق تقدم کامیون هستید؟



- 1. بلی .
- 2. خیر.

پاسخ : 2

ایستادن در محل قید شده



- 1. مجاز است.
- 2. ممنوع است.

پاسخ : 1

چه موقع عبور از خط کشی مجاز است؟



- 1. قبل از گذرگاه عابر پیاده.
- 2. پس از گذرگاه عابر پیاده.

پاسخ : 2

آیا راننده کامیون مقررات ایستادن را نقض کرده است؟



- 1. بلی .
- 2. خیر.

پاسخ : 1

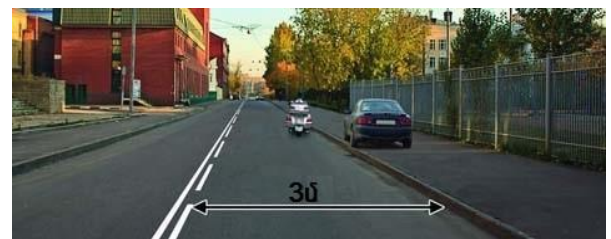
آیا در این حالت ایستادن بمنظور سوار کردن مسافر مجاز است؟



- 1. بلی .
- 2. فقط برای راننده وسیله نقلیه عمومی مجاز است.
- 3. خیر.

پاسخ : 2

کدامیک از رانندگان مقررات توقف را نقض کرده است؟

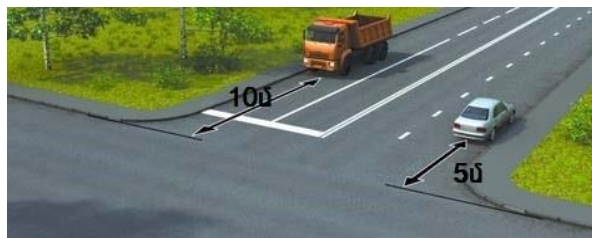


- 1. دو راننده.
- 2. فقط راننده خودرو سواری سبک.
- 3. فقط راننده موتور سیکلت.
- 4. هیچ یک.

پاسخ : 2



کدامیک مقررات ایستادن را نقض کرده است؟



- 1 دو راننده.
- 2 فقط راننده کامیون.
- 3 فقط راننده خودرو سواری سبک.
- 4 هیچ یک.

پاسخ : 2

آیا ایستادن در محل یاد شده مجاز است؟



- 1 بلی .
- 2 خیر.

پاسخ : 1

آیا ایستادن بر روی پل بمنظور سوار کردن مسافر مجاز است؟



- 1 بلی .
- 2 خیر.

پاسخ : 2

آیا توقف کردن در محل قید شده مجاز است؟



1. ممنوع است.
2. مجاز است.

پاسخ : 1

آیا ایستادن در محل قید شده مجاز است؟



- 1 بلی .
- 2 خیر.

پاسخ : 2

کدام راننده مقررات ایستادن را نقض کرده است؟



- 1 راننده خودرو.
- 2 راننده موتور سیکلت.
- 3 دو راننده.
- 4 هیچ یک.

پاسخ : 3

کدام راننده مقررات توقف کردن را نقض کرده است؟



- 1 راننده کامیون.
- 2 راننده خودرو سواری سبک.
- 3 هیچ یک.
- 4 دو راننده.

پاسخ : 2

تن 3.5 آیا توقف کردن به شیوه قید شده بر روی تابلو برای راننده کامیون با وزن کمتر از مجاز است؟



- 1 بلی.
- 2 خیر.

پاسخ : 2

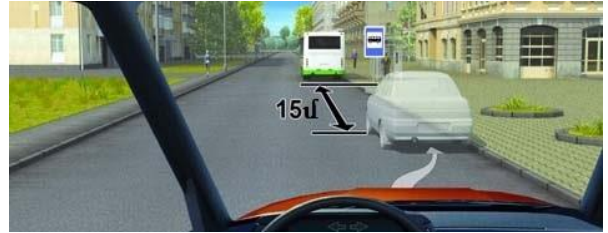
آیا ایستادن در محل یاد شده مجاز است؟



- 1 بلی.
- 2 خیر.

پاسخ : 2


توقف کردن در مکان قید شده



- 1 مجاز است.
- 2 ممنوع است.

پاسخ : 1


ایستادن در مکان قید شده



- 1 مجاز است.
- 2 بمنظور سوار کردن مسافر مجاز است.
- 3 ممنوع است.

پاسخ : 3

آیا رانندگان مجاز به ایستادن در مکان قید شده هستند؟



- 1 بلی.
- 2 فقط راننده موتور سیکلت.
- 3 خیر.

پاسخ : 3

آیا ایستادن به این شیوه قرارگیری خودرو مجاز است؟



1. بلی.
2. فقط برای خودروهای سواری سبک.
3. خیر.

پاسخ : 3

آیا ادامه تردد در این خط عبور پس از پیشی گرفتن از کامیون مجاز است؟



1. بلی .
2. خیر.

پاسخ : 2

آیا در این وضعیت ادامه تردد در خط عبور فعلی مجاز است؟



1. بلی .
2. خیر.

پاسخ : 1

ایستادن در مکان قید شده



1. مجاز است.
2. متر باشد 3 مجاز است اگر فاصله بین وسیله نقلیه تا خط کشی بیش از .
3. ممنوع است.

پاسخ : 3

این خط کشی نشانگر چیست؟



- 1 حق تقدم هنگام تغییر خط عبور .
- 2 نزدیک شدن به مقطع منحنی شکل جاده .
- 3 نزدیک شدن به پایان خط عبور .

پاسخ : 3

این خط کشی نشانگر چیست؟



- 1 در تقاطع کنترل شونده «خط ایست» نزدیک شدن به .
- 2 تردد بدون ایست ممنوع «زمانی که به همراه تابلوی «خط ایست» نزدیک شدن به خط کشی .
- 2 قابل استفاده است («ایست» تابلوی ) «است
- 3 نزدیک شدن به راه بند.

پاسخ : 2



این خط کشی مثلثی شکل درباره چه چیزی اطلاع رسانی می کند؟



- 1 خطرناک (پیچ) درباره نزدیک شدن به گردش .
- 2 درباره نزدیک شدن به محل رعایت حق تقدم.
- 3 درباره نزدیک شدن به محل متوقف نمودن خودرو.

پاسخ : 2

خط کشی عمودی حصارها درباره چه چیزی اطلاع می دهد؟



- 1 درباره نزدیک شدن به تقاطع هم سطح راه آهن.
- 2 درباره نزدیک شدن به تقاطع خطرناک.
- 3 درباره تردد در مقطع خطرناک جاده.

پاسخ : 3

به موجب این خط کشی سبقت



- 1 مجاز است.
- 2 ممنوع است.
- 3 فقط برای تراکتور ها سبقت گرفتن مجاز است.

پاسخ : 1

این خط کشی های منقطع در حیطة تقاطع نشانگر چیست؟



- 1 مسیرهای مجاز تردد.
- 2 خطوط عبور تردد در مرزهای تقاطع.

پاسخ : 2

خط کشی منقطع نشان دهنده چیست؟



- 1 بر شانه راه (ایست) حق توقف .
- 2 حاشیه های بخش تردد بر روی جاده دارای دو خط عبور.
- 3 حق تردد از روی شانه راه.

پاسخ : 2

به موجب این خط کشی عمودی



- 1 تمامی اجزاء عمودی همجوار با بخش تردد مشخص می شوند.
- 2 تنها اجزائی از ساختارهای جاده ای مشخص می شوند که برای راننده خطرناکند.

پاسخ : 2

آیا توقف کردن در مکان قید شده مجاز است؟



1. مجاز است.
2. مجاز است بدون بالا رفتن بر روی پیاده رو.
3. ممنوع است.

پاسخ : 3

در چنین حالتی تردد از این مسیر



1. فقط هنگام سبقت گرفتن مجاز است.
2. مجاز است.
3. ممنوع است.

پاسخ : 3

آیا می توانید به تردد پس از علامت ادامه دهید؟



1. بلی.
2. «خط ایست» بلی تا .
3. خیر.

پاسخ : 2

سبقت گرفتن با وجود این خط کشی



1. مجاز است.
2. مجاز است اگر تردد کننده از جلو با سرعت کم حرکت می کند.
3. ممنوع است.

پاسخ : 3

کدامیک از رانندگان در صورت ایستادن مجاز به عبور از خط ممتد است؟



1. دو راننده.
2. راننده ای که در لاین مقابل حرکت می کند.
3. برای دو راننده ممنوع است.

پاسخ : 2

زمانی که خط کشی های نارنجی رنگ و سفید با هم در تضادند، رانندگان

1. می توانند به دستورهای خط کشی عمل کنند که برای خودشان مناسب است.
2. باید به دستورهای خط کشی سفید عمل کنند.
3. باید به دستورهای خط کشی نارنجی عمل کنند.

پاسخ : 3



این خط کشی



1. مرزهای منطقه مسکونی را نشان می دهد.
2. نشان دهنده دست انداز مصنوعی است.
3. تردد آتی را ممنوع می سازد.

پاسخ : 2

آیا ایستادن در محل قید شده مجاز است؟



- 1 فقط برای موتور سیکلت ها.
- 2 خیر.
- 3 بلی.

پاسخ : 3

این خط کشی به چه معنی است؟



- 1 شماره مسیر حرکت یا جاده .
- 2 سرعت پیشنهادی .
- 3 حداکثر سرعت مجاز در این بخش از جاده.

پاسخ : 3

این خط کشی کدام گزینه را ممنوع می سازد؟



- 1 سبقت گرفتن.
- 2 دور زدن.
- 3 دور برگردان.
- 4 تردد به سمت چپ آن یا از روی آن.

پاسخ : 4

کدام وسایل نقلیه می توانند از خط عبور حاشیه راست این جاده تردد کنند؟



- 1 اتوبوس های برقی و اتوبوس های همگانی.
- 2 اتوبوس های برقی و اتوبوس ها.
- 3 فقط اتوبوس ها.

پاسخ : 1

نوشته در بخش تردد نشان دهنده کدام گزینه است؟



- 1 فاصله تا تقاطعی که در نزدیکی واقع است.
- 2 فاصله تا منطقه مسکونی که نزدیکی واقع است.
- 3 شماره جاده یا مسیر حرکت.

پاسخ : 3

آیا توقف کردن در محل قید شده مجاز است؟



1. ممنوع است.
2. فقط در پیاده رو.
3. فقط برای موتور سیکلت ها.
4. مجاز است.

پاسخ : 1

بزرگ شدن خطوط خط کشی منقطع بیانگر چیست؟



1. خط عبور(نزدیک شدن به خاتمه خط ترافیک).
2. نزدیک شدن به بخش خطرناک.
3. اینکه این خط کشی بزودی تبدیل به خط ممند خواهد شد.

پاسخ : 3

در حالت قید شده تردد در مسیر مستقیم



1. ممنوع است.
2. مجاز است.
3. مجاز است ضمن تغییر خط عبور به خط عبور سمت راست.

پاسخ : 3

این جاده چند خط عبور دارد؟



1. دو.
2. چهار.

پاسخ : 2