


Նշաններից ո՞րն է կոչվում «Արգելի շրջանցումը ձախից»:



- 1.1
- 2.2
- 3.3
- 4.4
- 5.5

Պատ.՝3


Թույլատրվում է արդյոք ավտոբուսի վարորդին մուտք գործել խաչմերուկ տվյալ իրադրությունում:



- 1.Թույլատրվում է:
- 2.Արգելվում է:
- 3.Թույլատրվում է, եթե ավտոբուսը երթելեկում է սահմանված երթուղով:

Պատ.՝2

Նշված դեպքում ո՞ր գոտուց պետք է կատարվի աջ շրջադարձը:



- 1.Միայն երկրորդ գոտուց:
- 2.Միայն «A» գծանշումով նշված աջ եզրային գոտուց:


Պատ.՝2

Խաչմերուկում կազմակերպված է շրջանաձև երթելակայան: Երթելեկելի մասը, որով մոտենում եք խաչմերուկին, ունի երթելեկության երկու գոտի: Խաչմերուկ մուտք գործելիս՝ շրջադարձ կատարելու համար ո՞ր գոտին եք պարտավոր զբաղեցնել՝

- 1.Աջ գոտին:
- 2.Ձախ գոտին:
- 3.Կամ աջ, կամ ձախ գոտին:

Պատ.՝3

Թույլատրվում է արդյոք մուտք գործել բակ նշված տեղից:



- 1.Թույլատրվում է:
- 2.Արգելվում է:

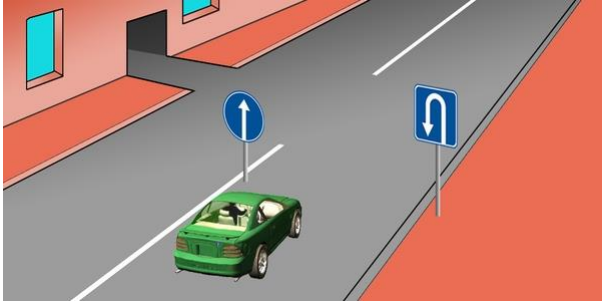
Պատ.՝1

Երկկողմ երթելեկությամբ գծանշված ճանապարհներին, երեք գոտու առկայության դեպքում (բացառությամբ երթելեկության դարձափոխային կարգավորմամբ ճանապարհների), որոնցից միջինն օգտագործվում է երկու ուղղություններով երթելեկության համար, ձախ եզրային գոտի մուտք գործելը՝

- 1.Թույլատրվում է:
- 2.Արգելվում է:
- 3.Թույլատրվում է՝ միայն վազանցի, շրջանցման, ձախ շրջադարձի կամ հետադարձի համար:

Պատ.՝2

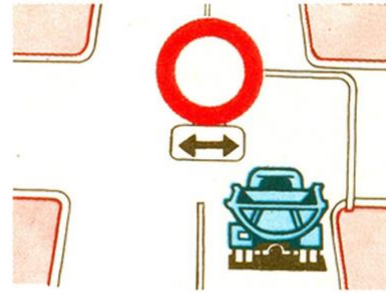
Ո՞ր պատասխանում է ճիշտ նշված երթևեկության թույլատրելի ուղղությունը:



1. Միայն հետադարձ:
2. Ուղիղ եւ հետադարձ:
3. Միայն ուղիղ:

Պատ.՝3

Ո՞ր ուղղությամբ է արգելվում երթևեկությունը՝



1. Դեպի ձախ եւ դեպի աջ:
2. Ուղիղ եւ հակառակ ուղղությամբ:
3. Միայն ուղիղ:
4. Բոլոր ուղղություններով:

Պատ.՝1

Հետադարձն արգելվում է՝

1. Հետիոտնային անցումների վրա:
2. Թունելներում:
3. Կամուրջների, ուղեկամուրջների, էստակադների վրա եւ դրանց տակ:
4. Երկաթուղային գծանցներում:
5. Թվարկած բոլոր դեպքերում:

Պատ.՝5

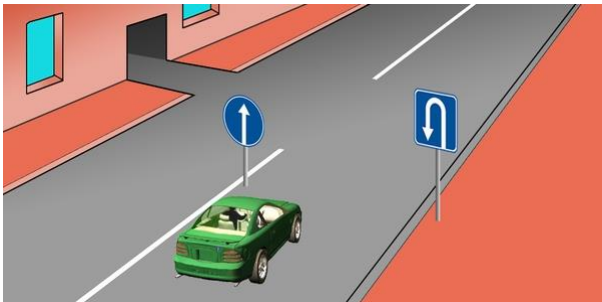
Թույլատրվում է արդյոք դեղին ավտոբուսի վարորդին մուտք գործել խաչմերուկ:



1. Թույլատրվում է:
2. Արգելվում է:
3. Թույլատրվում է, եթե ավտոբուսը երթևեկում է սահմանված երթուղով:

Պատ.՝2

Ո՞ր պատասխանում է ճիշտ նշված երթևեկության թույլատրելի ուղղությունը:



1. Ուղիղ եւ դեպի ձախ՝ մուտք գործելով բակ:
2. Միայն ուղիղ:
3. Միայն հետադարձ:
4. Ուղիղ եւ հետադարձ:

Պատ.՝2

Հետադարձն արգելվում է, եթե ճանապարհի թեկուզ եւ մեկ ուղղությամբ տեսանելիությունը պակաս է՝

1. 100 մ-ից:
2. 150 մ-ից:
3. 300 մ-ից:

Պատ.՝1

Դուք երթեւեկում եք երեք գոտի ունեցող երկկողմ երթեւեկությամբ ճանապարհով: Ո՞ր դեպքում է թույլատրվում մուտք գործել միջին գոտի:

1. Միայն վազանցի դեպքում:
2. Միայն շրջանցման դեպքում:
3. Միայն ձախ շրջադարձի կամ հետադարձի դեպքում:
4. Թվարկած բոլոր դեպքերում:

Պատ.՝4

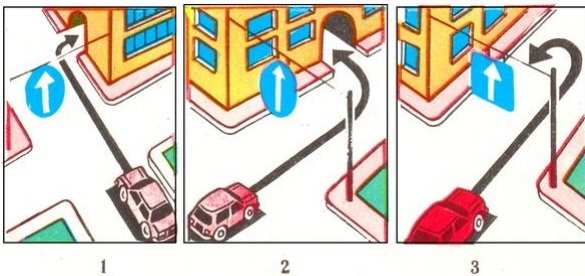
Ո՞ր ուղղությամբ է թույլատրվում բեռնատար ավտոմոբիլի երթեւեկությունը:



1. Միայն դեպի աջ:
2. Դեպի աջ, դեպի ձախ եւ հակառակ ուղղությամբ:
3. Միայն դեպի ձախ:

Պատ.՝2


Ո՞ր նկարում է վարորդը ճիշտ կատարում մանևերը:



- 1.1
- 2.2
- 3.3

Պատ.՝1

Ո՞ր տրանսպորտային միջոցի վարորդն է ճիշտ կատարում հետադարձը:



1. Կապույտ ավտոմոբիլի վարորդը:
2. Կարմիր ավտոմոբիլի վարորդը:
3. Երկու վարորդներն էլ:

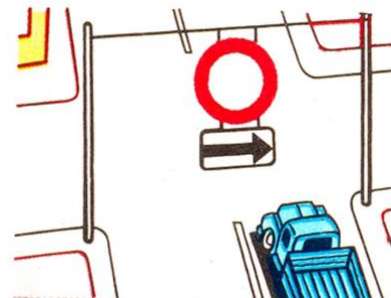
Պատ.՝2

Ճանապարհային նշանների, գծանշման եւ բաժանարար գոտու բացակայության դեպքում վարորդները երկկողմ երթեւեկությամբ ճանապարհների երթեւեկելի մասում գտնվող ճանապարհային կառույցների տարրերը պետք է շրջանցեն՝

1. Աջ կողմից:
2. Ձախ կողմից:

Պատ.՝1


Ո՞ր ուղղությամբ է արգելվում երթեւեկությունը:



1. Միայն դեպի ձախ:
2. Միայն դեպի աջ:
3. Ուղիղ եւ դեպի ձախ:
4. Բոլոր ուղղություններով:

Պատ.՝2


Ո՞ր տրանսպորտային միջոցի վարորդն է խախտում կանոնները շրջադարձ կատարելիս՝ արգելակման գոտի ունեցող ճանապարհին:



1. Երկու վարորդն էլ:
2. Դեղին ավտոմոբիլի վարորդը:
3. Երկու վարորդն էլ շրջադարձը կատարում են ճիշտ:

Պատ.՝2

Թույլատրվում է արդյոք տվյալ իրադրությունում կարմիր ավտոմոբիլի վարորդին շարունակել երթևեկությունը:



1. Թույլատրվում է:
2. Արգելվում է:


Պատ.՝2

Երեք գոտի ունեցող երկկողմ երթևեկությամբ ճանապարհի վրա Ձեզ անհրաժեշտ է կատարել ձախ շրջադարձ: Ո՞ր գոտուց կկատարեք տվյալ մանևրը:

1. Աջ գոտուց:
2. Միջին գոտուց:
3. Աջ կամ միջին գոտուց:
4. Միջին գոտուց, եթե զբաղեցված է աջ գոտին:

Պատ.՝2

Թույլատրվում է արդյոք կարմիր ավտոմոբիլի վարորդին երթևեկել տրամվայի գծերով:



1. Թույլատրվում է:
2. Արգելվում է:

Պատ.՝1

Հետադարձն արգելվում է՝

1. Հետիոտնային անցումների վրա եւ թունելներում:
2. Կամուրջների, ուղեկամուրջների, Էստակադների վրա եւ դրանց տակ:
3. Երկաթուղային գծանցներում:
4. Ճանապարհի՝ թեկուզ եւ մեկ ուղղությամբ 100 մ-ից պակաս տեսանելիության տեղերում:
5. Բոլոր թվարկած դեպքերում:

Պատ.՝5


Ո՞ր ուղղություններով է թույլատրվում երթևեկությունը:



1. Միայն դեպի ձախ:
2. Ուղիղ, դեպի ձախ եւ հետադարձ:
3. Միայն ուղիղ:

Պատ.՝2

Ո՞ր տրանսպորտային միջոցների վարորդներն են խախտել ճանապարհային նշանի պահանջները:



1. Մոտոցիկլների վարորդները:
2. Ավտոմոբիլի եւ կողային կցորդով մոտոցիկլի վարորդները:
3. Միայն ավտոմոբիլի վարորդը:
4. Բոլոր տրանսպորտային միջոցների վարորդները:

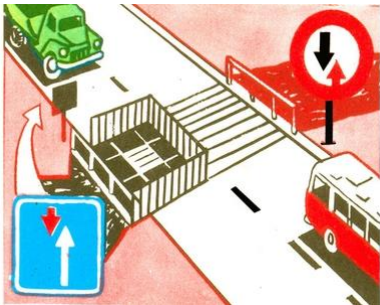
Պատ.՝4

Համընթաց ուղղությամբ երթեւեկող տրանսպորտային միջոցների միաժամանակյա վերադասավորման դեպքում ճանապարհը պետք է զիջի՝

1. Ձախից ընթացող տրանսպորտային միջոցի վարորդը:
2. Աջից ընթացող տրանսպորտային միջոցի վարորդը:

Պատ.՝1

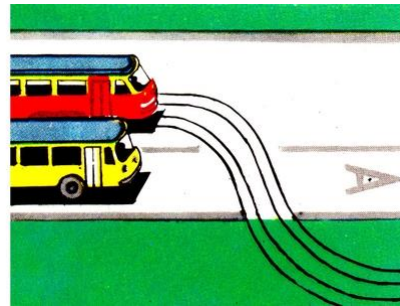
Ո՞ր տրանսպորտային միջոցի վարորդն ունի առաջնահերթ երթեւեկության իրավունք:



1. Բեռնատար ավտոմոբիլի վարորդը:
2. Ավտոբուսի վարորդը:

Պատ.՝1

Պարտավոր է արդյոք սահմանված երթուղով երթեւեկող ավտոբուսի վարորդը նշված իրադրությունում զիջել ճանապարհը:



1. Պարտավոր է:
2. Պարտավոր չէ:
3. Պարտավոր չէ, քանի որ երթեւեկում է ուղիղ:

Պատ.՝1

Եթե համապատասխան նշաններով կահավորված երկայնական թեքությամբ ճանապարհահատվածներում հանդիպակաց երթեւեկությունը դժվարացած է, ապա ճանապարհը պետք է զիջել՝

1. Վայրէջքի ուղղությամբ ընթացող տրանսպորտային միջոցին:
2. Ընդհանուր օգտագործման տրանսպորտային միջոցին:
3. Վերելքի ուղղությամբ ընթացող տրանսպորտային միջոցին:

Պատ.՝3


Ո՞ր տրանսպորտային միջոցի վարորդը պետք է զիջի ճանապարհը:



1. Տրակտորի վարորդը:
2. Ավտոբուսի վարորդը:

Պատ.՝2

Երթեւեկության առավելություն ունի՝



1. Կապույտ ավտոմոբիլը, քանի որ կարմիրը փոխում է երթեւեկության ուղղությունը դեպի ձախ:
2. Կարմիր ավտոմոբիլը, քանի որ միաժամանակյա վերադասավորման դեպքում գտնվում է աջ կողմում:
3. Կապույտ ավտոմոբիլը, քանի որ միաժամանակյա վերադասավորման դեպքում գտնվում է ձախ կողմում:


Պատ.՝2

Պարտավոր են արդյոք տրանսպորտային միջոցների վարորդները բնակավայրերում ճանապարհը զիջել կահավորված եւ նշված կանգառի կետերի տարածքից երթեւեկությունը սկսող ընդհանուր օգտագործման տրանսպորտային միջոցներին:

1. Այո:
2. Ոչ:

Պատ.՝1


Ո՞ր տրանսպորտային միջոցի վարորդը պետք է զիջի ճանապարհը:



1. Թեթեւ մարդատար ավտոմոբիլի վարորդը:
2. Բեռնատար ավտոմոբիլի վարորդը:

Պատ.՝1

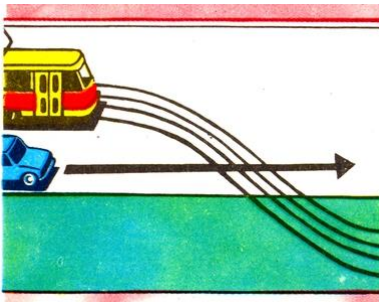
Ո՞ր տրանսպորտային միջոցի վարորդը պետք է զիջի ճանապարհը:



1. Ավտոբուսի վարորդը:
2. Ավտոմոբիլի վարորդը:

Պատ.՝2

Ո՞ր տրանսպորտային միջոցի վարորդը պետք է զիջի ճանապարհը:



1. Ավտոմոբիլի վարորդը:
2. Տրամվայի վարորդը:

Պատ.՝1

Նշե՞ք խաչմերուկի անցման հերթականությունը՝



1. Ավտոբուսը, բեռնատար ավտոմոբիլը, լծասայլը:
2. Ավտոբուսը եւ լծասայլը, բեռնատար ավտոմոբիլը:

Պատ.՝2

Հանդիպակաց երթևեկության դեպքում կտրուկ վայրէջքի վրա անհրաժեշտ է ճանապարհը զիջել՝

- 1.Ընդհանուր օգտագործման տրանսպորտային միջոցին:
- 2.Վերել բարձրացող տրանսպորտային միջոցին:
- 3.Ներքեւ իջնող տրանսպորտային միջոցին:

Պատ.՝2

Բնակավայրերում միեւնույն ուղղությամբ երթևեկության 3 եւ ավելի գոտիների առկայության դեպքում ձախ եզրային գոտի զբաղեցնել թույլատրվում է արդյոք ընդհանուր օգտագործման տրանսպորտային միջոցներին:

- 1.Թույլատրվում է վազանց կատարելիս:
- 2.Թույլատրվում է ձախ շրջադարձ կամ հետադարձ կատարելիս:
- 3.Թույլատրվում է բոլոր դեպքերում:

Պատ.՝2

Բոլոր ճանապարհներին միեւնույն ուղղությամբ երթևեկության 3 եւ ավելի գոտիների առկայության դեպքում ձախ եզրային գոտի զբաղեցնել թույլատրվում է արդյոք ընդհանուր օգտագործման տրանսպորտային միջոցներին:

- 1.Թույլատրվում է վազանց կատարելիս:
- 2.Թույլատրվում է ձախ շրջադարձ կամ հետադարձ կատարելիս:
- 3.Թույլատրվում է բոլոր դեպքերում:

Պատ.՝2

Ինչպե՞ս պետք է վարվի երթուղային ավտոբուսի վարորդը տվյալ իրավիճակում:



- 1.Ճանապարհը զիջի թեթեւ մարդատար ավտոմոբիլին:
- 2.Միացնի շրջադարձի ցուցիչը, տա՝ ձայնային ազդանշան եւ սկսի երթևեկությունը:
- 3.Սկսի երթևեկությունը՝ համոզված լինելով, որ թեթեւ մարդատար ավտոմոբիլի վարորդը զիջում է ճանապարհը:

Պատ.՝3

Տվյալ իրադրությունում սպիտակ թեթեւ մարդատար ավտոմոբիլի վարորդը՝



- 1.Ճանապարհը պետք է զիջի երթուղային ավտոբուսին, որը սկսում է երթևեկությունը Նշված կանգառի կետից:
- 2.Ունի առաջնահերթ երթևեկության իրավունք, քանի որ երթուղային ավտոբուսը վերադասավորվում է երկրորդ գոտի անցնելով:

Պատ.՝1

Ո՞ր տրանսպորտային միջոցի վարորդն ունի առաջնահերթ երթևեկության իրավունք:



- 1.Թեթեւ մարդատար ավտոմոբիլի վարորդը:
- 2.Երթուղային ավտոբուսի վարորդը:

Պատ.՝1

Ո՞ր տրանսպորտային միջոցի վարորդն ունի առաջնահերթ երթևեկության իրավունք տվյալ իրավիճակում:



1. Ավտոբուսի վարորդը:
2. Թեթև մարդատար ավտոմոբիլի վարորդը:
3. Թեթև մարդատար ավտոմոբիլի վարորդը իրավունք չունի անցնել աջ գոտի:

Պատ.՝1

Խաչմերուկում որտեղ կազմակերպված է շրջանաձև երթևեկություն, պարտավո՞ր է արդյոք ավտոբուսի վարորդը զիջել ճանապարհը բեռնատար ավտոմոբիլին:



1. Պարտավոր է:
2. Պարտավոր չէ:

Պատ.՝2

Երթևեկությունն ուղիղ շարունակող ավտոբուսի վարորդը պարտավո՞ր է արդյոք զիջել ճանապարհը բեռնատար ավտոմոբիլին:



1. Պարտավոր է:
2. Պարտավոր չէ:

Պատ.՝1

Եթե մտադիր եք շարունակել երթևեկությունն ուղիղ, ո՞ր տրանսպորտային միջոցին պետք է զիջեք ճանապարհը:



1. Երկու տրանսպորտային միջոցներին:
2. Միայն ավտոբուսին:
3. Միայն թեթև մարդատար ավտոմոբիլին:
4. Ոչ մեկին:

Պատ.՝1

Եթե մտադիր եք շարունակել երթևեկությունն ուղիղ, ու՞մ պետք է զիջեք ճանապարհը:



1. Միայն թեթև մարդատար ավտոմոբիլին:
2. Միայն ավտոբուսին եւ թեթև մարդատար ավտոմոբիլին:
3. Բոլոր տրանսպորտային միջոցներին:
4. Միայն մոտոցիկլին:

Պատ.՝2

Տվյալ իրադրությունում պարտավո՞ր է մոտոցիկլի վարորդը զիջել ճանապարհը:



1. Պարտավոր չէ:
2. Պարտավոր է:

Պատ.՝2



Տվյալ իրադրությունում ունե՞ք արդյոք կշված մանևրի իրավունք:



- 1. Այո:
- 2. Ոչ:

Պատ.՝2

Դուք շարունակում եք երթևեկությունն ուղիղ, ո՞ր տրանսպորտային միջոցին պետք է զիջեք ճանապարհը:



- 1. Միայն թեթև մարդատար ավտոմոբիլին:
- 2. Բեռնատար ավտոմոբիլին:
- 3. Երկու տրանսպորտային միջոցներին:
- 4. Ոչ մեկին:

Պատ.՝3

Դուք շարունակում եք երթևեկությունն ուղիղ, պարտավո՞ր եք արդյոք զիջել ճանապարհը թեթև մարդատար ավտոմոբիլին:



- 1. Պարտավոր եք:
- 2. Պարտավոր չեք:

Պատ.՝2

Դուք սկսում եք երթևեկել ճամփեզրից, պարտավո՞ր եք արդյոք զիջել ճանապարհը թեթև մարդատար ավտոմոբիլին, որը կատարում է հետադարձ:



- 1. Պարտավոր եք:
- 2. Պարտավոր չեք:

Պատ.՝1

Դուք շարունակում եք երթևեկությունն ուղիղ, ո՞ր տրանսպորտային միջոցին պետք է զիջեք ճանապարհը:



- 1. Միայն թեթև մարդատար ավտոմոբիլին:
- 2. Ոչ մեկին:
- 3. Միայն թեթև մարդատար ավտոմոբիլին եւ մոտոցիկլին:
- 4. Բոլոր տրանսպորտային միջոցներին:

Պատ.՝1

Եթե մտադիր եք կատարել ձախ շրջադարձ, ո՞ր տրանսպորտային միջոցին պետք է զիջեք ճանապարհը:



- 1. Մոտոցիկլին:
- 2. Պարեկային ավտոմոբիլին:
- 3. Բոլոր տրանսպորտային միջոցներին:

Պատ.՝3

Եթե մտադիր եք խաչմերուկում կատարել հետադարձ, ո՞ր տրանսպորտային միջոցին պետք է զիջեք ճանապարհը:



1. Թեթև մարդատար ավտոմոբիլին:
2. Բոլոր տրանսպորտային միջոցներին:
3. Բեռնատար ավտոմոբիլին:

Պատ.՝2

Եթե մտադիր եք խաչմերուկում կատարել ձախ շրջադարձ, ո՞ր տրանսպորտային միջոցին պետք է զիջեք ճանապարհը:



1. Բեռնատար ավտոմոբիլին:
2. Բոլոր տրանսպորտային միջոցներին:
3. Ոչ մեկին:

Պատ.՝2

Եթե մտադիր եք խաչմերուկում կատարել ձախ շրջադարձ, ո՞ր տրանսպորտային միջոցին պետք է զիջեք ճանապարհը:



1. Ոչ մեկին:
2. Միայն ավտոբուսին:
3. Միայն միացված փարոսիկով բեռնատար ավտոմոբիլին:
4. Բոլոր տրանսպորտային միջոցներին:

Պատ.՝2

Եթե մտադիր եք խաչմերուկում կատարել հետադարձ, ո՞ր տրանսպորտային միջոցին պետք է զիջեք ճանապարհը:



1. Բեռնատար ավտոմոբիլին:
2. Թեթև մարդատար ավտոմոբիլին:
3. Բոլոր տրանսպորտային միջոցներին:
4. Ոչ մեկին:

Պատ.՝1

Եթե մտադիր եք կատարել ձախ շրջադարձ, ո՞ր տրանսպորտային միջոցին պետք է զիջեք ճանապարհը:



1. Ավտոբուսին:
2. Ավտոբուսին եւ թեթև մարդատար ավտոմոբիլին:
3. Թեթև մարդատար ավտոմոբիլին:
4. Ոչ մեկին:

Պատ.՝4

Եթե մտադիր եք կատարել աջ շրջադարձ, պարտավո՞ր եք արդյոք զիջել ճանապարհը թեթև մարդատար ավտոմոբիլին:



1. Պարտավոր եք:
2. Պարտավոր չեք:

Պատ.՝2

Եթե մտադիր եք կատարել աջ շրջադարձ, ո՞ր տրանսպորտային միջոցին պետք է զիջեք ճանապարհը:



- 1.Ոչ մեկին:
- 2.Թեթև մարդատար ավտոմոբիլին:
- 3.Ստտոցիկլին եւ թեթև մարդատար ավտոմոբիլին:

Պատ.՝1

Պարտավոր ենք արդյո՞ք այս իրավիճակում զիջել հանդիպակացից մոտեցող ավտոմոբիլի վարորդին:



- 1.Այո
- 2.Ոչ

Պատ.՝1

Այս իրավիճակում պարտավոր եք



- 1.Չիջել ճանապարհը
- 2.Անցնել առաջինը

Պատ.՝1

Տվյալ իրավիճակում



- 1.Կարող ենք շրջանցել բեռնատարին աջ կողմից՝ կողնակով:
- 2.Շարունակել երթևեկությունը միայն բեռնատարի անցումից հետո:
- 3.Թույլատրվում են երկու գործողությունները

Պատ.՝2

Այս իրավիճակում



- 1.Պետք է զիջեք ճանապարհը
- 2.Կարող եք առաջինն անցնել

Պատ.՝2

Տվյալ իրավիճակում ուղիղ երթևեկելու դեպքում թույլատրվում է



- 1.Շրջանցել բեռնատարն աջ կողմից:
- 2.Շարունակել երթևեկությունը միայն բեռնատարի անցումից հետո
- 3.Նշված երկու դեպքերն էլ թույլատրելի են

Պատ.՝3

Ո՞ր հետագծով է թույլատրվում մոտենալ մայթեզրում սպասող հետիոտներին



1. Միայն Ա
2. Միայն Բ
3. Թույլատրվում է երկու հետագծերով

Պատ.՝2

Դուրս գալով ճանապարհ այս իրավիճակում պարտավոր ենք զիջել



1. Աջ կողմից մոտեցող վարորդներին
2. Բոլոր վարորդներին
3. Վարորդներին և հետիոտներին

Պատ.՝3

Այս իրավիճակում զիջել ճանապարհը պարտավոր է



1. Թեթև մարդատարի վարորդը
2. Մոտոցիկլի վարորդը

Պատ.՝1

Ո՞ր հետագծով է թույլատրված հետադարձը



1. Միայն Ա
2. Միայն Բ
3. Երկու հետագծերով

Պատ.՝1

Կապույտ ավտոմոբիլի վարորդը ո՞ր նկարում ներկայացված իրավիճակում ունի առաջնահերթ երթևեկության իրավունք մյուս վարորդի նկատմամբ



1. Ձախ
2. Աջ
3. Երկու

Պատ.՝3

Հետադարձը նշված տեղում



1. Թույլատրվում է, եթե մոտեցող գնացք չկա
2. Թույլատրվում է
3. Արգելվում է

Պատ.՝2

Ո՞ր հետագծով է թույլատրված աջ շրջադարձը



- 1. Միայն Ա
- 2. Միայն Բ
- 3. Երկու հետագծերով

Պատ.՝1

Ո՞ր տրանսպորտային միջոցի վարորդը պետք է զիջի ճանապարհը



- 1. Բեռնատարի
- 2. Թեթև մարդատարի

Պատ.՝2

Ո՞ր հետագծով է թույլատրվում հետադարձը վարորդին



- 1. Միայն Ա
- 2. Միայն Բ
- 3. Ցանկացած

Պատ.՝2

Այս գոտուց ո՞ր ուղղությամբ կարող է թեթև մարդատարի վարորդը շարունակել երթևեկությունը



- 1. Միայն ուղիղ
- 2. Ուղիղ և աջ
- 3. Ցանկացած
- 4. Ուղիղ, ձախ և հակառակ

Պատ.՝4

Դեպի աջից հարող ճանապարհի աջ շրջադարձ կատարելիս անհրաժեշտ է



- 1. Շարունակել երթևեկությունն այս գոտով և շրջադարձը կատարել միայն այդ գոտուց
- 2. Վերադասավորվել արգելակված գոտի և շրջադարձը կատարել միայն այդ գոտուց
- 3. Երկու տարբերակներն էլ ճիշտ են:

Պատ.՝2

Ձախ բակ մուտք գործելիս ո՞ւմ պետք է զիջել ճանապարհը



- 1. Միայն հանդիպակացից մոտեցող վարորդին
- 2. Վարորդին և հետիոտներին
- 3. Ոչ ոքի

Պատ.՝2

Հետադարձը այս խաչմերուկում



1. Թույլատրված է
2. Արգելված է

Պատ.Պ1

Պարտավոր է՝ թեթև մարդատարի վարորդը զիջել ճանապարհին իր գոտի վերադասավորվող ավտոկռուների վարորդին



1. Այո, եթե ավտոկռուները նարնջագույն փարոսիկներով է կահավորված
2. Այո
3. Ոչ

Պատ.Պ3

Թույլատրված է՝ հետադարձն այս վայրում



1. Այո
2. Թույլատրված է, եթե տեսանելիությունը 100 մետր և ավելի է
3. Ոչ

Պատ.Պ2

Պարտավոր է արդյո՞ք թեթև մարդատարի վարորդը վերադասավորվել աջ եզրային գոտի վազանց ավարտելուց հետո



1. Ոչ, եթե գործում են բնակավայրով երթևեկության կանոնները
2. Այո
3. Ոչ

Պատ.Պ1

Ո՞ր հետագծով է թույլատրված ձախ շրջադարձը



1. Միայն Ա
2. Միայն Բ
3. Ցանկացած

Պատ.Պ2

Այն դեպքերում, երբ տրանսպորտային միջոցների երթևեկության ուղիները հատվում են, իսկ անցման հերթականությունը կանոններով սահմանված չէ, ճանապարհը պետք է զիջի այն վարորդը

1. Որին տրանսպորտային միջոց է մոտենում աջից
2. Որին տրանսպորտային միջոց է մոտենում ձախից:

Պատ.Պ1

Ո՞ր վարորդը պետք է զիջի ճանապարհը



- 1. Շարժունը սկսող վարորդը
- 2. Կանգնել պատրաստվող վարորդը

Պատ.՝1

Ջետադարձը նշված վայրում



- 1. Թույլատրվում է
- 2. Թույլատրվում է, եթե չի խոչընդոտում ընդհանուր օգտագործման տրանսպորտային միջոցների վարորդներին
- 3. Արգելվում է

Պատ.՝3

Ո՞ր հետագծով է թույլատրված ձախ շրջադարձը



- 1. Միայն Ա
- 2. Միայն Բ
- 3. Ցանկացած

Պատ.՝2

Թեթև մարդատարի վարորդը



- 1. Պետք է զիջի ճանապարհը
- 2. Ունի առավելություն, քանի որ մոտեցել է աջ կողմից

Պատ.՝1

Ո՞ր հետագծով է թույլատրված աջ շրջադարձը



- 1. Միայն Ա
- 2. Միայն Բ
- 3. Ցանկացած

Պատ.՝1

Ո՞ր հետագծով է թույլատրված հետադարձը



- 1. Միայն Ա
- 2. Ա կամ Գ
- 3. Բոլոր

Պատ.՝2

Պարտավոր է՝ վարորդը վերադասավորվել աջ գոտի և նոր միայն կատարել աջ շրջադարձն այս իրավիճակում



- 1. Այո
- 2. Ոչ

Պատ.՝2

Գտնվելով կամրջի սահմաններում թույլատրվո՞ւմ է հետադարձը



- 1. Թույլատրվում է, եթե տեսանելիությունը 100 մետր և ավելի է
- 2. Արգելվում է

Պատ.՝2

Մուտք գործել խաչմերուկ նշված գոտուց



- 1. Թույլատրվում է միայն հետադարձ կատարելիս
- 2. Թույլատրվում է ցանկացած դեպքում

Պատ.՝2

Թույլատրված է՝ հետադարձն այս վայրում



- 1. Այո
- 2. Թույլատրված է, եթե տեսանելիությունը 100 մետր և ավելի է
- 3. Ոչ

Պատ.՝2

Առանց վերադասավորման երթևեկող վարորդը զիջել աջից վերադասավորվող վարորդին



- 1. Պարտավոր չէ
- 2. Պարտավոր է

Պատ.՝1

Ջետադարձն այս վայրում



- 1. Թույլատրվում է
- 2. Արգելվում է

Պատ.՝1



Ձախ շրջադարձը թույլատրվում է



1. Միայն Ա հետագծով
2. Միայն Բ հետագծով
3. Ցանկացած հետագծով

Պատ.՝3

Կայանատեղիից միաժամանակ շարժումը սկսելու դեպքում պարտավոր եք արդյո՞ք զիջել ճանապարհը առջևում գտնվող վարորդին



1. Այո
2. Ոչ

Պատ.՝1

Ո՞ր հետագծով իրավունք ունի վարորդը կատարել ձախ շրջադարձն այս իրավիճակում



1. Միայն Ա
2. Միայն Բ
3. Ցանկացած

Պատ.՝3

Խաչմերուկում թույլատրվում է արդյո՞ք հետընթաց կատարումով հետադարձ կատարել



1. Այո
2. Այո, եթե խոչընդոտ չի ստեղծի խաչմերուկով երթևեկողներին
3. Ոչ

Պատ.՝3

Թույլատրվո՞ւմ է վարորդին այս իրավիճակում աջ շրջադարձ կատարել



1. Այո
2. Ոչ

Պատ.՝2

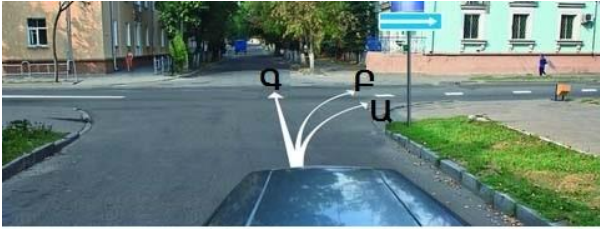
Այս իրավիճակում կանգառ կատարելիս ո՞ր ազդանշանի լուսային ցուցիչը պետք է միացնի վարորդը



1. Աջ
2. Աջ, վերադասավորումից հետո ձախ
3. Ձախ

Պատ.՝3

Ո՞ր հետագծերով է թույլատրված երթևեկությունը



- 1. Բոլոր
- 2. Միայն Ա
- 3. Միայն Ա կամ Գ

Պատ.՝3

Տեսանելիության բացակայության պատճառով հետընթաց կատարելիս վարորդը պետք է

- 1. Ձայնային ազդանշան տա
- 2. Միացնի վթարային լուսային ազդանշանը
- 3. Դիմի այլ անձանց օգնությանը

Պատ.՝3

Հետընթաց վարմամբ բակի մուտքն օգտագործելով հետադարձ կատարելն այս իրավիճակում



- 1. Թույլատրվում է, եթե չի խոչընդոտի այլ երթևեկողներին
- 2. Արգելվում է

Պատ.՝1

Թույլատրվո՞ւմ է թեթև մարդատարի վարորդին սկսել շարժումը



- 1. Այո
- 2. Այո, եթե չի խոչընդոտի բեռնատարի վարորդին
- 3. Ոչ

Պատ.՝2

Ո՞ր տարբերակում է թույլատրված հետընթացը

- 1. Խաչմերուկներում
- 2. Աջ եզրային չհանդիսացող գոտիներում
- 3. Հետիոտնային անցումներում

Պատ.՝2

Տվյալ իրավիճակում թու՞յլատրվում է վարորդին երթևեկությունը տրամվայի գծերով



- 1. Այո
- 2. Թույլատրվում է միայն հետադարձ կամ ձախ շրջադարձ կատարելու դեպքում
- 3. Ոչ

Պատ.՝3

Պարտավոր է արդյո՞ք վարորդն այս իրավիճակում ձախ շրջադարձ կատարելիս լուսային ցուցիչով ազդանշան տալ



1. Այո
2. Այո, երբ առկա է հանդիպակաց երթևեկող
3. Պարտավոր չէ

Պատ.՝1

Ձախ շրջադարձ թույլատրվում է



1. Միայն Ա հետագծով
2. Միայն Բ հետագծով
3. Երկու հետագծերով

Պատ.՝2

Թույլատրվո՞ւմ է թեթև մարդատարի վարորդին հետընթաց վարմամբ մոտենալ ուղևորին կամուրջի վրա



1. Այո
2. Այո, եթե չի ստեղծի խոչընդոտ այլ մասնակիցներին
3. Ոչ

Պատ.՝3

Թո՞ւյլատրվում է հետադարձ կատարել այս իրավիճակում



1. Թույլատրում է, եթե հետևից երթևեկողների համար 100 մետր և ավելից մենք տեսանելի ենք
2. Արգելվում է

Պատ.՝1

Ի՞նչ կանոն է խախտում վարորդը մուտք գործելով բակ



1. Աջ շրջադարձ է կատարում միայն ուղիղ նշանի ազդանշան գոտում
2. Լուսային ցուցիչով ազդանշան չի տալիս
3. Երկու խախտումները միաժամանակ

Պատ.՝2

Չի՞ջել ճանապարհը բեռնատարի վարորդին



1. Պարտավոր ենք
2. Պարտավոր ենք, եթե նա այդ մասին ձեռքով ազդանշան է տվել
3. Պարտավոր չենք

Պատ.՝3

Ո՞ր հետագծով է թույլատրված հետադարձը



- 1. Միայն Ա
- 2. Միայն Բ
- 3. Ցանկացած

Պատ.՝1

Ո՞ր հետագծով է թույլատրված հետադարձը



- 1. Ցանկացած
- 2. Միայն Բ
- 3. Միայն Ա

Պատ.՝1

Ճանապարհը պետք է զիջի



- 1. Թեթև մարդատարի վարորդը
- 2. Բեռնատարի վարորդը

Պատ.՝2

Թույլատրվո՞ւմ է պատահմամբ անցած խաչմերուկում հետընթաց վարմամբ շտկել և շարունակել երթևեկությունը մեզ անհրաժեշտ ուղղությամբ



- 1. Այո
- 2. Ոչ

Պատ.՝2

Այս գոտուց երթևեկությունը շարունակել թույլատրվում է



- 1. Միայն ձախ ուղղությամբ
- 2. Ձախ և հակառակ ուղղություններով
- 3. Աջ, ձախ և հակառակ ուղղություններով

Պատ.՝2

Թույլատրվո՞ւմ է աջ բակը մտնել հետընթաց կատարելով նշված իրադրությունում



- 1. Այո, եթե չենք խոչընդոտի ընդհանուր օգտագործման տրանսպորտային միջոցներին
- 2. Ոչ

Պատ.՝2

Վերադասավորվելով հարևան գոտի այս իրավիճակում



- 1. Պարտավոր եք զիջել նշված գոտով ընթացող վարորդներին
- 2. Ունեք երթևեկության առավելություն

Պատ.՝1

Ո՞ր հետագծով է թույլատրված հետադարձը



- 1. Միայն Ա
- 2. Միայն Բ
- 3. Ցանկացած

Պատ.՝3

Ո՞ր հետագծով է թույլատրված ձախ շրջադարձը



- 1. Միայն Ա
- 2. Միայն Գ
- 3. Ցանկացած

Պատ.՝3

Այս իրավիճակում թո՞ւյլատրվում է հետընթացով մոտենալ ուղևորին



- 1. Այո
- 2. Ոչ

Պատ.՝1

Ինչպե՞ս պետք է վարվեք խաչմերուկից դուրս ձախ շրջադարձի և հետադարձի ժամանակ

- 1. Պետք է ճանապարհը զիջել հանդիպակաց տրանսպորտային միջոցներին
- 2. Պետք է ճանապարհը զիջել հանդիպակաց տրանսպորտային միջոցներին և համընթաց երթևեկող տրամվայներին

Պատ.՝2

Թույլատրվա՞ն է հետընթացն այս իրավիճակում



- 1. Արգելվում է
- 2. Թույլատրվում է մինչև հետիոտնային անցումը

Պատ.՝1

Շարժումն սկսելիս պարտավոր եք արդյո՞ք զիջել ճանապարհը հետադարձ կատարող վարորդին



1. Այո
2. Ոչ

Պատ.՝1

Ջետընթացով մոտենալ ուղևորին այս իրավիճակում



1. Թույլատրվում է
2. Թույլատրվում է, եթե չի խոչընդոտում այլ վարորդների երթևեկությանը
3. Արգելվում է

Պատ.՝3

Ո՞ր վարորդն է խախտում երթևեկության կանոնները դուրս գալով շրջանաձև երթևեկությամբ խաչմերուկից



1. Թեթև մարդատարի
2. Երկու վարորդները
3. Ոչ ոք

Պատ.՝1

Ջետադարձն այս խաչմերուկում



1. Թույլատրվում է
2. Արգելվում է

Պատ.՝1

Ո՞ր ուղղությամբ է թույլատրված երթևեկությունը



1. Միայն ձախ
2. Ուղիղ և ձախ
3. Ձախ և հետադարձ

Պատ.՝1

Պարտավոր եք արդյո՞ք միացնել աջ շրջադարձի ցուցիչ այս խաչմերուկում



1. Այո
2. Ոչ
3. Այո, բացառությամբ հետադարձ կատարելիս:

Պատ.՝1

Մերձակա տարածք մուտք գործելիս վարորդը պետք է ճանապարհը զիջի

1. Միայն հետիոտներին
2. Միայն հեծանվորդներին
3. Հեծանվորդներին և չստեղծի խոչընդոտ հետիոտների համար

Պատ.՝3

Մերձակա տարածքից ճանապարհի դուրս գալիս՝ վարորդը պետք է

1. ճանապարհը զիջի միայն հետիոտներին
2. ճանապարհը զիջի դրանով երթևեկող տրանսպորտային միջոցներին
3. Չիջի ճանապարհը երթևեկող տրանսպորտային միջոցների վարորդներին և չստեղծի խոչընդոտ հետիոտների համար

Պատ.՝3

Հետադարձ կատարել նշանից հետո թույլատրվում է



1. Միայն երկու կողմից 100 մետր տեսանելիության դեպքում
2. Խոչընդոտ չստեղծելու դեպքում
3. Ոչ մի դեպքում

Պատ.՝3

Ազդանշան տալը երթևեկության մյուս մասնակիցների նկատմամբ առավելություն

1. Տալիս է
2. Տալիս է միայն վերադասավորվելիս
3. Չի տալիս

Պատ.՝3

Նշված հետագծով աջ շրջադարձը



1. Թույլատրված է
2. Արգելված է

Պատ.՝1

Բեռնատարից առաջ անցնելուց հետո ո՞ր գոտով կարող եք շարունակել երթևեկությունը



1. Միայն աջ
2. Երկու համընթաց գոտիներով էլ թույլատրվում է

Պատ.՝1

Հետադարձը նշված վայրում



- 1. Թույլատրվում է
- 2. Թույլատրվում է, եթե առկա չեն ընդհանուր օգտագործման տրանսպորտային միջոցներ
- 3. Արգելվում է

Պատ.՝3

Առաջնահերթ երթևեկության իրավունք ունի



- 1. Թեթև մարդատարի վարորդը
- 2. Բեռնատարի վարորդը

Պատ.՝2

Միաժամանակ վերադասավորվելիս ո՞ր տրանսպորտային միջոցի վարորդը ունի առաջնահերթ երթևեկության իրավունք



- 1. Բեռնատարի
- 2. Թեթև մարդատարի

Պատ.՝2

Թույլատրվո՞ւմ է հետընթացով մոտենալ ուղևորին



- 1. Այո
- 2. Ոչ

Պատ.՝2

Այլ բակ մուտք գոծելու դեպքում պարտավոր ենք զիջել



- 1. Միայն հետիոտներին
- 2. Միայն հեծանվորդին
- 3. Ոչ մեկին
- 4. Հեծանվորդին և հետիոտներին

Պատ.՝4

Այս վերելքի ուղղությամբ շարժվելիս հետադարձ թույլատրվում է, եթե



- 1. Հևարավոր լինի այն կատարել մեկ գործողությամբ
- 2. Ապահովված է 100 մետր տեսանելիությունը երկու կողմից
- 3. Արգելված է

Պատ.՝2



Ո՞ր տրանսպորտային միջոցի վարորդը պետք է զիջի ճանապարհը



1. Ավտոբուսի վարորդը
2. Թեթև մարդատարի վարորդը

Պատ.՝1

Թույլատրվում է հետադարձն այս վայրում



1. Թույլատրվում է երկու կողմից 100մ տեսանելիության պայմաններում
2. Արգելվում է

Պատ.՝1

Թույլատրվո՞ւմ է անցնել կամուրջը, եթե դա չի խոչընդոտում մոտոցիկլի վարորդին



1. Այո
2. Ոչ

Պատ.՝1