


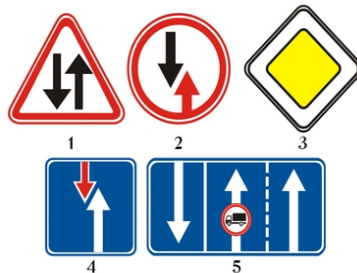
Эти знаки разрешают движение:



1. Только налево.
2. Только прямо.
3. Только направо.
4. Прямо, направо и в обратном направлении.

Отв. 4

Какой знак предоставляет водителю преимущество по отношению к встречным транспортным средствам?



Отв. 4

Разрешается ли заезжать на полосу, обозначенную этим знаком при выполнении правого поворота?



1. Разрешается.
2. Запрещается.
3. Разрешается, если полоса не отделена от остальной проезжей части сплошной линией разметки.

Отв. 3

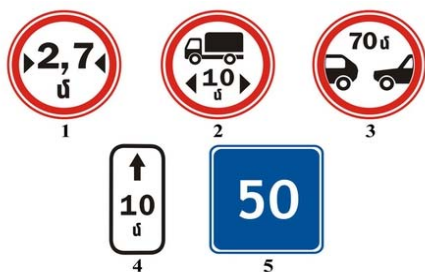
Этот дорожный знак обозначает:



1. Участок дороги, на котором имеется тротуар или пешеходная дорожка.
2. Участок дороги, на котором имеется пешеходный переход.
3. Участок дороги, не имеющий тротуара или пешеходной дорожки.

Отв. 2

Какой знак запрещает движение транспортных средств с дистанцией между ними, меньшей указанной на знаке?



Отв. 3

На каком расстоянии до начала опасного участка устанавливаются эти знаки в населенных пунктах?



1. 15 - 25 м.
2. 25 - 50 м.
3. 50 - 100 м.
4. 100 - 150 м.
5. 150 - 300 м.

Отв. 3


Этот дорожный знак:



1. Запрещает движение всех механических транспортных средств, за исключением двухколесных мотоциклов без коляски.
2. Запрещает движение всех механических транспортных средств, за исключением колесных тракторов.
3. Запрещается движение тракторов и самоходных машин.


Отв. ` 3

Какой знак обязывает уступить дорогу встречным транспортным средствам, находящимся на узком участке или противоположном подъезде к нему?



Отв. ` 3

Какой знак предупреждает о приближении к перекрестку равнозначных дорог?



Отв. ` 5

Какой знак устанавливается непосредственно перед пересечением проезжих частей?



Отв. ` 2

Что означает табличка под знаком?



1. Расстояние от знака до начала первого поворота.
2. Расстояние от первого поворота до начала второго поворота.
3. Протяженность участка дороги с опасными поворотами.

Отв. ` 3

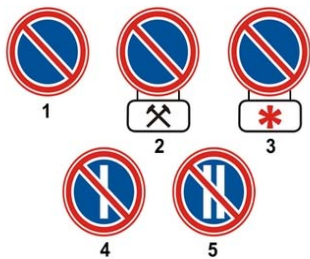
Что означают эти знаки?



1. Движение мотоциклов направо запрещено.
2. Движение мотоциклов направо разрешено.

Отв. ` 1

Какой знак запрещает стоянку по четным числам месяца?



Отв. 5

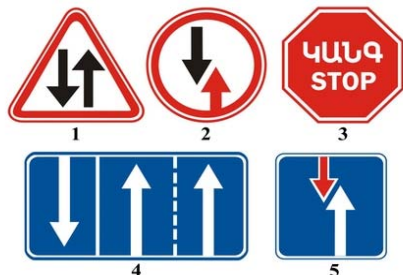
Этот дорожный знак:



1. Разрешает движение только с указанной или большей скоростью.
2. Запрещает движение с большей скоростью, чем указано на знаке.
3. Указывает скорость, с которой рекомендуется движение на данном участке дороги.

Отв. 1

Какой знак требует уступить дорогу встречным транспортным средствам?



Отв. 2

Этот знак называется?



1. Предварительный указатель объезда препятствий.
2. Предварительный указатель перестроения на другую проезжую часть.
3. Предварительный указатель выезда на полосу встречного движения.

Отв. 2

Какой знак обязывает уступить дорогу транспортным средствам, движущимся по пересекаемой дороге?



Отв. 3


Можно ли водителю автобуса обгонять в зоне действия этого знака?



1. Можно во всех случаях с соблюдением правил обгона.
2. Нельзя.
3. Можно при условии, если обгоняемое транспортное средство движется со скоростью менее 30 км/ч.

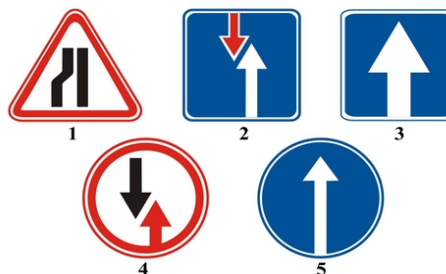
Отв. 1

Какой из знаков разрешает движение только с указанной (км/ч) или большей скоростью?



Отв. 3

Какой знак указывает участок дороги с односторонним движением?



Отв. 3

Что указывает табличка под знаком?



1. Протяженность узкого участка дороги.
2. Расстояние от знака до места ограничения.
3. Расстояние до объезда узкого участка дороги.

Отв. 2

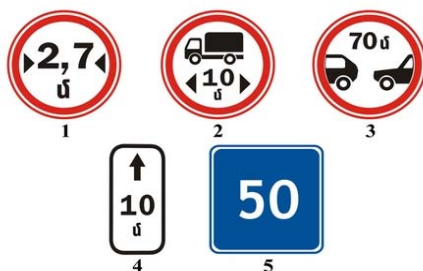
Этот дорожный знак предупреждает, что впереди:



1. Участок дороги с водной преградой, не имеющий моста или паромной переправы.
2. Участок дороги с водной преградой, на котором имеется разводной мост.
3. Место, где дорога выходит на набережную или берег.

Отв. 3

Какой из знаков указывает зону действия дорожных знаков, запрещающих остановку и стоянку транспортных средств?



Отв. 4

Какой из знаков указывает протяженность опасного участка дороги, обозначенного предупреждающими знаками?



Отв. 4


Этот дорожный знак обозначает:



1. Дорога с односторонним движением, на которой разрешено движение только грузовых автомобилей.
2. Полосу, предназначенную для движения только грузовых автомобилей.
3. Рекомендуемое направление движения для грузовых автомобилей.

Отв. ` 3

Какой знак обозначает „Гостиницу“ или „Мотель“ ?



Отв. ` 3

Таким опознавательным знаком обозначаются автомобили:



1. Перевозящие опасные грузы.
2. Управляемые инвалидами.
3. Управляемые глухонемыми или глухими водителями.
4. Управляемые водителями, имеющими водительский стаж до 3-х лет.

Отв. ` 3

Какой знак обозначает конец зоны ограничения максимальной скорости 50 км/ч?



Отв. ` 2

О чем предупреждает знак и табличка под ним:



1. Остановка на обочине запрещена в связи с работами.
2. Съезд на обочину опасен в связи с проведением на ней ремонтных работ
3. Стоянка на обочине запрещена в связи с ремонтными работами на дороге.

Отв. ` 2

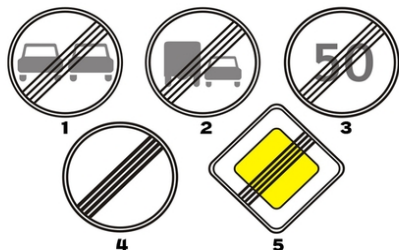
Таким опознавательным знаком обозначают транспортное средство:



1. Управляемое инвалидом.
2. Перевозящее тяжеловесные и крупногабаритные грузы.
3. Перевозящее опасные грузы.
4. Управляемое глухонемым или глухим водителем.

Отв. ` 3

Какой из указанных знаков отменяет все ранее введенные ограничения?



Отв. 4

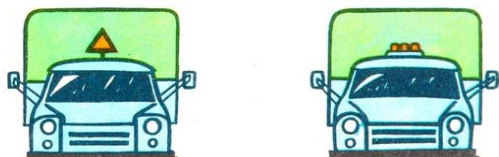
В каком случае водитель правильно выполнил требования этого знака?



1. Уступил дорогу механическим транспортным средствам, движущимся по пересекаемой дороге.
2. Уступил дорогу транспортным средствам, движущимся по пересекаемой дороге.

Отв. 2


Какой из указанных знаков устанавливается для обозначения автопоезда?



1. Левый знак.
2. Правый знак.
3. Оба знака.

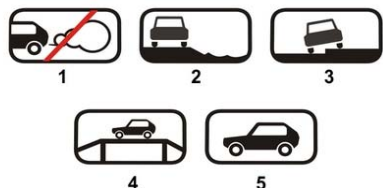
Отв. 2

Какой знак обязывает уступить дорогу транспортным средствам, движущимся по пересекаемой дороге?



Отв. 4

Какой знак (табличка) указывает способ постановки транспортного средства на стоянку?



Отв. 3

Разрешается ли останавливаться на полосе, обозначенной этим знаком для посадки пассажиров?



1. Разрешается, если полоса расположена у правого края проезжей части, и если она не отделена от остальной проезжей части сплошной линией разметки.
2. Запрещается.
3. Разрешается.

Отв. 1


При наличии этого дорожного знака:



1. Запрещается обгон всеми видами транспортных средств, за исключением тихоходных транспортных средств, гужевых повозок, мотоциклов без бокового прицепа, мопедов и велосипедов.
2. Разрешается обгон грузовыми автомобилями с разрешенной максимальной массой не более 3,5 т.
3. Обгон разрешен, если скорость обгоняемого транспортного средства не превышает 30 км/ч.

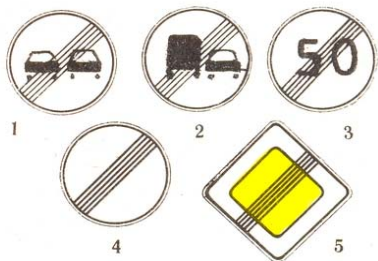
Отв. 1

Какой знак называется „Пересечение с велосипедной дорожкой“ ?




Отв. 2

Какой из указанных знаков обозначает конец зоны запрещения обгона?



Отв. 1

Какой знак указывает направление движения на Т-образном перекрестке?



1. 1
2. 2
3. 3
4. 4
5. 5

Отв. 2


Этот дорожный знак обозначает:



1. Дорогу, не имеющую сквозного проезда.
2. Направление движения к объекту в населенном пункте.
3. Конец дополнительной полосы на подъеме или полосы разгона.

Отв. 1

Действие какого знака не распространяется на транспортные средства общего пользования?



Отв. 4

Каким транспортным средствам разрешено движение по дороге, на которой установлен этот знак?



1. Механическим транспортным средствам.
2. Всем транспортным средствам.
3. Автомобилям и мотоциклам.
4. Транспортным средствам максимальная скорость которых более 40 км/ч.

Отв. 3

Какой из этих дорожных знаков не является запрещающим?



Отв. 2


Что обозначает данный опознавательный знак:



1. Впереди участок дороги, имеющий неровность на проезжей части.
2. Впереди участок дороги с тремя полосами для движения в данном направлении.
3. На механическом транспортном средстве установлены шины с шипами.


Отв. 3

Который из этих знаков называется „Конец дороги с односторонним движением“?



Отв. 4

Какой знак обязывает уступить дорогу транспортным средствам, движущимся по пересекаемой дороге?



Отв. 2

Эти знаки обозначают:



1. Место стоянки через 30 м для автомобилей с опознавательным знаком „Инвалид“.
2. Место стоянки в зоне 30 м для транспортных средств, кроме мотоциклов.
3. Место стоянки в зоне 30 м для мотоциклов и автомобилей с опознавательным знаком „Инвалид“.

Отв. 3



Какой из этих знаков является опознавательным знаком транспортных средств?



Отв. 3

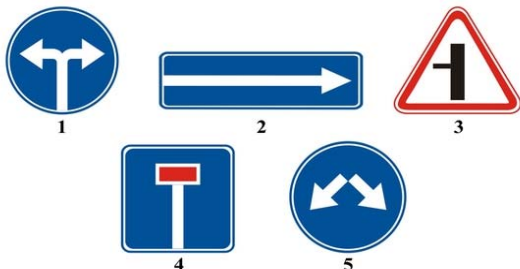
Движение каких транспортных средств запрещает этот дорожный знак?



1. Механических транспортных средств.
2. Только автомобилей.
3. Всех легковых автомобилей.

Отв. 1

Какой из знаков указывает объезд препятствия справа или слева?



Отв. 5

Какой из знаков устанавливается спереди и сзади транспортного средства, перевозящего группу детей?



Отв. 1

Что показывают данные дорожные знаки?



1. Главная дорога продолжается от перекрестка налево
2. Главная дорога продолжается прямо через перекресток и налево

Отв. 1


Что показывают данные дорожные знаки?



1. В зоне действия таблички водители должны передвигаться с большей скоростью, чем указано на знаке.
2. В зоне действия таблички водителям рекомендуется передвигаться со скоростью указанной знаком.

Отв. 2


Какие знаки распространяют свое действие только на период времени, когда покрытие проезжей части влажное?



1. Только А и С.
2. Только В.
3. Только С.
4. Все.

Отв. 3

Как должен поступить водитель в данной ситуации?



1. Продолжать движение по прямой.
2. Перестроиться на полосу встречного движения.

Отв. 2

Что показывают данные дорожные знаки?



1. Через 150-300м после знака начинается сужение дороги с правой стороны протяженностью 100м.
2. Через 100м после знака начинается сужение дороги с правой стороны.

Отв. 1

В каком направлении водителю разрешено движение:



1. Только направо и налево.
2. Только прямо.
3. Прямо и в обратном направлении.

Отв. 3

Что показывают данные дорожные знаки?



1. Остановка запрещена по субботам.
2. Остановка запрещена по воскресеньям.
3. Остановка запрещена по субботам, воскресеньям и по праздничным дням.
4. Остановка запрещена во время снегопада.

Отв. 3

Какой из знаков запрещает разворот?



Отв. 3

Что показывают данные дорожные знаки?



1. Съезжать на обочину опасно в связи с ремонтными работами.
2. На дороге ведутся ремонтные работы.

Отв. 1


Как должен поступать водитель в том случае, когда перед перекрестком установлен данный дорожный знак?



1. Проехать перекресток, соблюдая правила безопасности.
2. Уступить дорогу транспортным средствам, движущимся по пересекаемой дороге.
3. Остановиться перед знаком и уступить дорогу транспортным средствам, движущимся по пересекаемой дороге.

Отв. 3

Действие каких знаков не распространяется на транспортные средства общего пользования?



1. Не один из знаков.
2. Только первого.
3. Только четвертого.

Отв. 3

Данный дорожный знак показывает, что ?



1. На перекрестке следует двигаться налево или направо.
2. На пересекаемой дороге организовано реверсивное движение.
3. На пересекаемой дороге организовано одностороннее движение.

Отв. 2

Обязан ли в данной ситуации водитель уступить дорогу грузовому автомобилю?



1. Обязан.
2. Не обязан.

Отв. 1

Что показывают данные дорожные знаки?



1. Водители должны передвигаться со скоростью 40км/ч при гололеде.
2. Водители должны передвигаться со скоростью не более 40км/ч при мокром покрытии дороги.

Отв. 2

Что показывают данные дорожные знаки?



1. Остановка запрещается по субботам.
2. Остановка запрещается по воскресеньям.
3. Остановка запрещается по рабочим дням.

Отв. 3

Что показывает данный дорожный знак?



1. Движение на данном участке дороги разрешается со скоростью не более 50 км/ч.
2. На данном участке дороги рекомендуется передвигаться со скоростью 50 км/ч.
3. Движение разрешено только при указанной на данном знаке скорости или более.

Отв. 2

Какой дорожный знак принуждает водителя ехать только налево или направо?



1

2

3

Отв. 3

Что показывают данные дорожные знаки?



1. При мокром покрытии дороги рекомендуется движение со скоростью 40 км/ч.
2. При мокром покрытии дороги разрешается движение со скоростью не более 40 км/ч.

Отв. 1

Действие данных дорожных знаков распространяется:



1. На левую сторону дороги.
2. На правую сторону дороги.
3. На ту сторону дороги, где они установлены.

Отв. 3

По какой траектории разрешается объезд препятствия в данной ситуации?



1. Только "а".
2. Только "b".
3. "а" и "b".

Отв. 3

Как должен поступить водитель в данной ситуации?



1. Необходимо остановиться около первого знака.
2. Необходимо остановиться перед вторым знаком.
3. Необходимо остановиться на расстоянии не менее 5 метров от первой железнодорожной линии.

Отв. 2

Как должен поступить водитель, если намерен совершить правый поворот на перекрестке?



1. Может перестроиться на правую полосу движения и после этого совершить поворот.
2. Может приблизиться к перекрестку, затем совершить правый поворот.
3. Оба ответа правильны.

Отв. 3


Имеет ли водитель право совершить разворот на расстоянии 200 м от знака в данной ситуации?



1. Имеет право.
2. Не имеет право.

Отв. 1

Обязан ли водитель остановиться на указанном регулировщиком месте в данной ситуации?



1. Не обязан, поскольку знак запрещает остановку.
2. Обязан.

Отв. 2

Как должен поступить водитель в данной ситуации?



1. Проехать железнодорожный переезд, соблюдая меры безопасности.
2. Проехать железнодорожный переезд не останавливаясь.
3. Остановиться перед знаком и, соблюдая меры безопасности, проехать многорельсовый железнодорожный переезд.

Отв. 3

Что указывает данная дорожная разметка на проезжей части?



1. Границы полос, выделенных для попутно движущихся транспортных средств.
2. Границу полосы проезжей части с реверсивным движением.

Отв. 2

В каком направлении разрешено движение легкового автомобиля?



1. Налево и в обратном направлении.
2. В любом направлении.
3. Прямо, налево и в обратном направлении.

Отв. ` 3

Как должен поступить водитель в данной ситуации?



1. В случае необходимости уступить дорогу транспортному средству, движущемуся по пересекаемой дороге.
2. Остановиться и уступить дорогу транспортному средству, движущемуся по пересекаемой дороге.

Отв. ` 2

Какой из нижепредставленных дорожных знаков запрещает въезд на территорию перекрестка, если впереди по направлению движения образовалась пробка, за исключением случаев поворота направо или налево



1                      2                      3                      4

Отв. ` 3

На каком наибольшем расстоянии устанавливается дорожный знак «Территория перекрестка», если невозможно установить его на границе перекрестка

1. 10 метров
2. 20 метров
3. 30 метров



Отв. ` 3

О чем предупреждает данный дорожный знак?



1. Остановка запрещается
2. Запрещается въезд на территорию перекрестка, если впереди по направлению движения образовалась пробка, которая принудит водителя остановиться.
3. Запрещается въезд на территорию перекрестка, если впереди по направлению движения образовалась пробка

Отв. ` 2

Что означает данная дорожная разметка?



1. Место стоянки транспортных средств
2. Место пешеходного перехода
3. Островок безопасности
4. Участок перекрестка, где запрещается въезд, если впереди по направлению движения образовалась пробка, которая принудит водителя остановиться.

Отв. ` 4

Какая из нижепредставленных дорожных разметок указывает участок перекрестка, где запрещается въезд, если впереди по направлению движения образовалась пробка, которая принудит водителя остановиться.



1                      2                      3

Отв. ` 3