


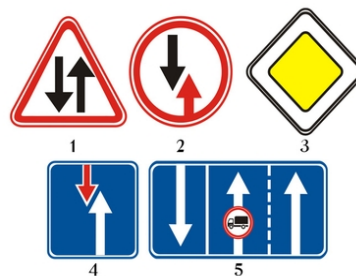
Эти знаки разрешают движение:



1. Только налево.
2. Только прямо.
3. Только направо.
4. Прямо, направо и в обратном направлении.

Отв. 4

Какой знак предоставляет водителю преимущество по отношению к встречным транспортным средствам?



Отв. 4

Разрешается ли заезжать на полосу, обозначенную этим знаком при выполнении правого поворота?



1. Разрешается.
2. Запрещается.
3. Разрешается, если полоса не отделена от остальной проезжей части сплошной линией разметки.

Отв. 3

Этот дорожный знак обозначает:



1. Участок дороги, на котором имеется тротуар или пешеходная дорожка.
2. Участок дороги, на котором имеется пешеходный переход.
3. Участок дороги, не имеющий тротуара или пешеходной дорожки.

Отв. 2

Какой знак запрещает движение транспортных средств с дистанцией между ними, меньшей указанной на знаке?



Отв. 3

На каком расстоянии до начала опасного участка устанавливаются эти знаки в населенных пунктах?



1. 15 - 25 м.
2. 25 - 50 м.
3. 50 - 100 м.
4. 100 - 150 м.
5. 150 - 300 м.

Отв. 3


Этот дорожный знак:



1. Запрещает движение всех механических транспортных средств, за исключением двухколесных мотоциклов без коляски.
2. Запрещает движение всех механических транспортных средств, за исключением колесных тракторов.
3. Запрещается движение тракторов и самоходных машин.


Отв. ` 3

Какой знак обязывает уступить дорогу встречным транспортным средствам, находящимся на узком участке или противоположном подъезде к нему?



Отв. ` 3

Какой знак предупреждает о приближении к перекрестку равнозначных дорог?



Отв. ` 5

Какой знак устанавливается непосредственно перед пересечением проезжих частей?



Отв. ` 2

Что означает табличка под знаком?



1. Расстояние от знака до начала первого поворота.
2. Расстояние от первого поворота до начала второго поворота.
3. Протяженность участка дороги с опасными поворотами.

Отв. ` 3

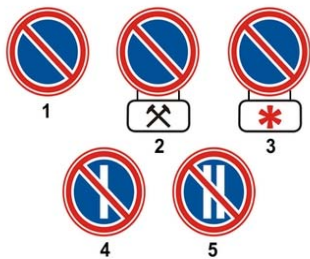
Что означают эти знаки?



1. Движение мотоциклов направо запрещено.
2. Движение мотоциклов направо разрешено.

Отв. ` 1

Какой знак запрещает стоянку по четным числам месяца?



Отв. 5

Этот дорожный знак:



1. Разрешает движение только с указанной или большей скоростью.
2. Запрещает движение с большей скоростью, чем указано на знаке.
3. Указывает скорость, с которой рекомендуется движение на данном участке дороги.

Отв. 1

Какой знак требует уступить дорогу встречным транспортным средствам?



Отв. 2


Этот знак называется?



1. Предварительный указатель объезда препятствий.
2. Предварительный указатель перестроения на другую проезжую часть.
3. Предварительный указатель выезда на полосу встречного движения.

Отв. 2

Какой знак обязывает уступить дорогу транспортным средствам, движущимся по пересекаемой дороге?



Отв. 3


Можно ли водителю автобуса обгонять в зоне действия этого знака?



1. Можно во всех случаях с соблюдением правил обгона.
2. Нельзя.
3. Можно при условии, если обгоняемое транспортное средство движется со скоростью менее 30 км/ч.

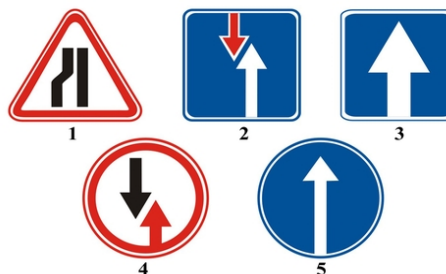
Отв. 1

Какой из знаков разрешает движение только с указанной (км/ч) или большей скоростью?



Отв. 3

Какой знак указывает участок дороги с односторонним движением?



Отв. 3

Что указывает табличка под знаком?



1. Протяженность узкого участка дороги.
2. Расстояние от знака до места ограничения.
3. Расстояние до объезда узкого участка дороги.

Отв. 2

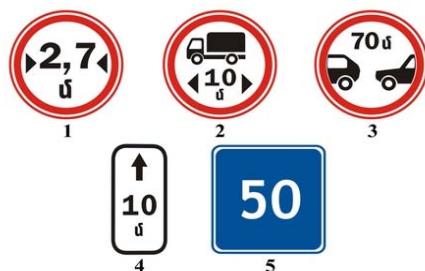
Этот дорожный знак предупреждает, что впереди:



1. Участок дороги с водной преградой, не имеющий моста или паромной переправы.
2. Участок дороги с водной преградой, на котором имеется разводной мост.
3. Место, где дорога выходит на набережную или берег.

Отв. 3

Какой из знаков указывает зону действия дорожных знаков, запрещающих остановку и стоянку транспортных средств?



Отв. 4

Какой из знаков указывает протяженность опасного участка дороги, обозначенного предупреждающими знаками?



Отв. 4


Этот дорожный знак обозначает:



1. Дорога с односторонним движением, на которой разрешено движение только грузовых автомобилей.
2. Полосу, предназначенную для движения только грузовых автомобилей.
3. Рекомендуемое направление движения для грузовых автомобилей.

Отв. ` 3

Какой знак обозначает „Гостиницу“ или „Мотель“ ?



Отв. ` 3

Таким опознавательным знаком обозначаются автомобили:



1. Перевозящие опасные грузы.
2. Управляемые инвалидами.
3. Управляемые глухонемыми или глухими водителями.
4. Управляемые водителями, имеющими водительский стаж до 3-х лет.

Отв. ` 3

Какой знак обозначает конец зоны ограничения максимальной скорости 50 км/ч?



Отв. ` 2

О чем предупреждает знак и табличка под ним:



1. Остановка на обочине запрещена в связи с работами.
2. Съезд на обочину опасен в связи с проведением на ней ремонтных работ
3. Стоянка на обочине запрещена в связи с ремонтными работами на дороге.

Отв. ` 2

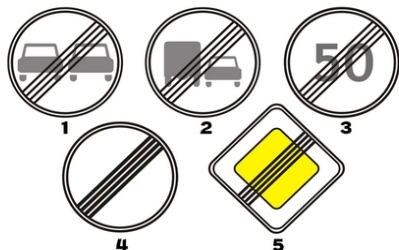
Таким опознавательным знаком обозначают транспортное средство:



1. Управляемое инвалидом.
2. Перевозящее тяжеловесные и крупногабаритные грузы.
3. Перевозящее опасные грузы.
4. Управляемое глухонемым или глухим водителем.

Отв. ` 3

Какой из указанных знаков отменяет все ранее введенные ограничения?



Отв. 4


В каком случае водитель правильно выполнил требования этого знака?



1. Уступил дорогу механическим транспортным средствам, движущимся по пересекаемой дороге.
2. Уступил дорогу транспортным средствам, движущимся по пересекаемой дороге.

Отв. 2


Какой из указанных знаков устанавливается для обозначения автопоезда?



1. Левый знак.
2. Правый знак.
3. Оба знака.

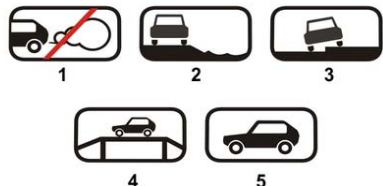
Отв. 2

Какой знак обязывает уступить дорогу транспортным средствам, движущимся по пересекаемой дороге?



Отв. 4

Какой знак (табличка) указывает способ постановки транспортного средства на стоянку?



Отв. 3

Разрешается ли останавливаться на полосе, обозначенной этим знаком для посадки пассажиров?



1. Разрешается, если полоса расположена у правого края проезжей части, и если она не отделена от остальной проезжей части сплошной линией разметки.
2. Запрещается.
3. Разрешается.

Отв. 1


При наличии этого дорожного знака:



1. Запрещается обгон всеми видами транспортных средств, за исключением тихоходных транспортных средств, гужевых повозок, мотоциклов без бокового прицепа, мопедов и велосипедов.
2. Разрешается обгон грузовыми автомобилями с разрешенной максимальной массой не более 3,5 т.
3. Обгон разрешен, если скорость обгоняемого транспортного средства не превышает 30 км/ч.

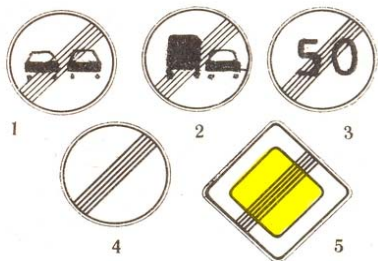
Отв. 1

Какой знак называется „Пересечение с велосипедной дорожкой“ ?




Отв. 2

Какой из указанных знаков обозначает конец зоны запрещения обгона?



Отв. 1

Какой знак указывает направление движения на Т-образном перекрестке?



1. 1
2. 2
3. 3
4. 4
5. 5

Отв. 2


Этот дорожный знак обозначает:



1. Дорогу, не имеющую сквозного проезда.
2. Направление движения к объекту в населенном пункте.
3. Конец дополнительной полосы на подъеме или полосы разгона.

Отв. 1

Действие какого знака не распространяется на транспортные средства общего пользования?



Отв. 4



Каким транспортным средствам разрешено движение по дороге, на которой установлен этот знак?



1. Механическим транспортным средствам.
2. Всем транспортным средствам.
3. Автомобилям и мотоциклам.
4. Транспортным средствам максимальная скорость которых более 40 км/ч.

Отв. 3

Какой из этих дорожных знаков не является запрещающим?



Отв. 2


Что обозначает данный опознавательный знак:



1. Впереди участок дороги, имеющий неровность на проезжей части.
2. Впереди участок дороги с тремя полосами для движения в данном направлении.
3. На механическом транспортном средстве установлены шины с шипами.


Отв. 3

Который из этих знаков называется „Конец дороги с односторонним движением“?



Отв. 4

Какой знак обязывает уступить дорогу транспортным средствам, движущимся по пересекаемой дороге?



Отв. 2

Эти знаки обозначают:



1. Место стоянки через 30 м для автомобилей с опознавательным знаком „Инвалид“.
2. Место стоянки в зоне 30 м для транспортных средств, кроме мотоциклов.
3. Место стоянки в зоне 30 м для мотоциклов и автомобилей с опознавательным знаком „Инвалид“.

Отв. 3



Какой из этих знаков является опознавательным знаком транспортных средств?



Отв. 3

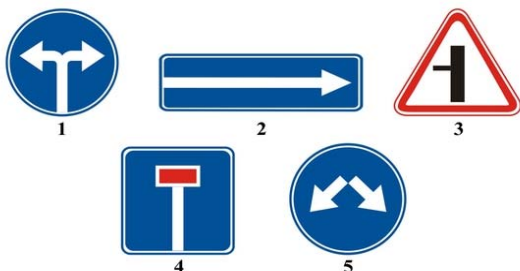
Движение каких транспортных средств запрещает этот дорожный знак?



1. Механических транспортных средств.
2. Только автомобилей.
3. Всех легковых автомобилей.

Отв. 1

Какой из знаков указывает объезд препятствия справа или слева?



Отв. 5

Какой из знаков устанавливается спереди и сзади транспортного средства, перевозящего группу детей?



Отв. 1

Что показывают данные дорожные знаки?



1. Главная дорога продолжается от перекрестка налево
2. Главная дорога продолжается прямо через перекресток и налево

Отв. 1


Что показывают данные дорожные знаки?



1. В зоне действия таблички водители должны передвигаться с большей скоростью, чем указано на знаке.
2. В зоне действия таблички водителям рекомендуется передвигаться со скоростью указанной знаком.

Отв. 2


Какие знаки распространяют свое действие только на период времени, когда покрытие проезжей части влажное?



1. Только А и С.
2. Только В.
3. Только С.
4. Все.

Отв. 3

Как должен поступить водитель в данной ситуации?



1. Продолжать движение по прямой.
2. Перестроиться на полосу встречного движения.

Отв. 2

Что показывают данные дорожные знаки?



1. Через 150-300м после знака начинается сужение дороги с правой стороны протяженностью 100м.
2. Через 100м после знака начинается сужение дороги с правой стороны.

Отв. 1

В каком направлении водителю разрешено движение:



1. Только направо и налево.
2. Только прямо.
3. Прямо и в обратном направлении.

Отв. 3

Что показывают данные дорожные знаки?



1. Остановка запрещена по субботам.
2. Остановка запрещена по воскресеньям.
3. Остановка запрещена по субботам, воскресеньям и по праздничным дням.
4. Остановка запрещена во время снегопада.

Отв. 3

Какой из знаков запрещает разворот?



Отв. 3

Что показывают данные дорожные знаки?



1. Съезжать на обочину опасно в связи с ремонтными работами.
2. На дороге ведутся ремонтные работы.

Отв. ` 1

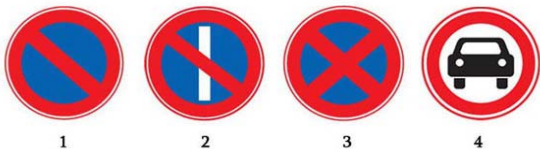
Как должен поступать водитель в том случае, когда перед перекрестком установлен данный дорожный знак?



1. Проехать перекресток, соблюдая правила безопасности.
2. Уступить дорогу транспортным средствам, движущимся по пересекаемой дороге .
3. Остановиться перед знаком и уступить дорогу транспортным средствам, движущимся по пересекаемой дороге.

Отв. ` 3

Действие каких знаков не распространяется на транспортные средства общего пользования?



1. Не один из знаков.
2. Только первого.
3. Только четвертого.

Отв. ` 3

Данный дорожный знак показывает, что ?



1. На перекрестке следует двигаться налево или направо.
2. На пересекаемой дороге организовано реверсивное движение.
3. На пересекаемой дороге организовано одностороннее движение.

Отв. ` 2

Обязан ли в данной ситуации водитель уступить дорогу грузовому автомобилю?



1. Обязан.
2. Не обязан.

Отв. ` 1

Что показывают данные дорожные знаки?



1. Водители должны передвигаться со скоростью 40км/ч при гололеде.
2. Водители должны передвигаться со скоростью не более 40км/ч при мокром покрытии дороги.

Отв. ` 2



Что показывают данные дорожные знаки?



1. Остановка запрещается по субботам.
2. Остановка запрещается по воскресеньям.
3. Остановка запрещается по рабочим дням.

Отв. 3

Что показывает данный дорожный знак?



1. Движение на данном участке дороги разрешается со скоростью не более 50 км/ч.
2. На данном участке дороги рекомендуется передвигаться со скоростью 50 км/ч.
3. Движение разрешено только при указанной на данном знаке скорости или более.

Отв. 2

Какой дорожный знак принуждает водителя ехать только налево или направо?



1

2

3

Отв. 3

Что показывают данные дорожные знаки?



1. При мокром покрытии дороги рекомендуется движение со скоростью 40 км/ч.
2. При мокром покрытии дороги разрешается движение со скоростью не более 40 км/ч.

Отв. 1

Действие данных дорожных знаков распространяются:



1. На левую сторону дороги.
2. На правую сторону дороги.
3. На ту сторону дороги, где они установлены.

Отв. 3

По какой траектории разрешается объезд препятствия в данной ситуации?



1. Только "а".
2. Только "b".
3. "а" и "b".

Отв. 3

Как должен поступить водитель в данной ситуации?



1. Необходимо остановиться около первого знака.
2. Необходимо остановиться перед вторым знаком.
3. Необходимо остановиться на расстоянии не менее 5 метров от первой железнодорожной линии.

Отв. 2

Как должен поступить водитель, если намерен совершить правый поворот на перекрестке?



1. Может перестроиться на правую полосу движения и после этого совершить поворот.
2. Может приблизиться к перекрестку, затем совершить правый поворот.
3. Оба ответа правильны.

Отв. 3


Имеет ли водитель право совершить разворот на расстоянии 200 м от знака в данной ситуации?



1. Имеет право.
2. Не имеет право.

Отв. 1

Обязан ли водитель остановиться на указанном регулировщиком месте в данной ситуации?



1. Не обязан, поскольку знак запрещает остановку.
2. Обязан.

Отв. 2

Как должен поступить водитель в данной ситуации?



1. Проехать железнодорожный переезд, соблюдая меры безопасности.
2. Проехать железнодорожный переезд не останавливаясь.
3. Остановиться перед знаком и, соблюдая меры безопасности, проехать многорельсовый железнодорожный переезд.

Отв. 3

Что указывает данная дорожная разметка на проезжей части?



1. Границы полос, выделенных для попутно движущихся транспортных средств.
2. Границу полосы проезжей части с реверсивным движением.

Отв. 2

В каком направлении разрешено движение легкового автомобиля?



1. Налево и в обратном направлении.
2. В любом направлении.
3. Прямо, налево и в обратном направлении.

Отв. 3

Как должен поступить водитель в данной ситуации?



1. В случае необходимости уступить дорогу транспортному средству, движущемуся по пересекаемой дороге.
2. Остановиться и уступить дорогу транспортному средству, движущемуся по пересекаемой дороге.

Отв. 2