

Что обозначает сплошная желтая линия горизонтальной разметки?



1. Место, где запрещается остановка и стоянка транспортных средств.
2. Место, где разрешена остановка транспортных средств для высадки пассажиров или разгрузки груза.
3. Место, где запрещена стоянка транспортных средств.

Отв. ` 1


Разрешается ли водителю пересекать сплошную линию разметки, обозначающую границы стояночных мест транспортных средств?



1. Запрещается.
2. Разрешается.

Отв. ` 2

По какому пути из числа обозначенных стрелками разрешено движение?



1. Только прямо.
2. Направо и в обратном направлении.
3. Прямо, на право и в обратном направлении.

Отв. ` 1

Что обозначает данная разметка?



1. Пешеходный переход, где движение регулируется светофором.
2. Место, где велосипедная дорожка пересекает проезжую часть.
3. Место, где пешеходная дорожка пересекает проезжую часть.

Отв. ` 2

Сколько полос для движения имеет дорога, где транспортные потоки противоположных направлений разделяются двойными сплошными линиями?



1. Две полосы.
2. Две или три полосы.
3. Три полосы.
4. Четыре или более полос.

Отв. ` 4

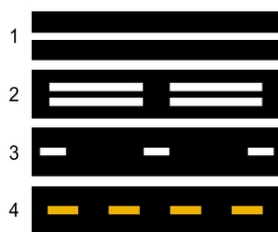
О чем предупреждает разметка в виде стрелок на проезжей части?



1. Предупреждают водителя о приближении к опасному участку дороги.
2. Предупреждают о приближении к концу полосы движения.
3. Указывают направление опасного поворота дороги.

Отв. ` 2

Какая из этих линий разметки используется для обозначения границ полос движения, на которых осуществляется реверсивное движение?



1. Линия 1.
2. Линия 2.
3. Линия 3.
4. Линия 2 и 3.
5. Линия 3 и 4.

Отв. ` 2

Где наносится сплошная желтая линия, обозначающая места, запрещающие остановки и стоянки?



1. На проезжей части.
2. У края проезжей части.
3. У края проезжей части или по верху бордюров.
4. Только по верху бордюра.

Отв. ` 3

С каким дорожным знаком может быть применена разметка в виде желтой прерывистой линии?



1. „Остановка запрещена“.
2. „Стоянка запрещена“.
3. „Стоянка по нечетным числам месяца запрещена“.

Отв. ` 2

Каким транспортным средствам разрешено движение по правой полосе проезжей части?



1. Всем механическим транспортным средствам.
2. Транспортным средствам общего пользования и такси.
3. Только велосипедам.
4. Только транспортным средствам общего пользования.

Отв. ` 4

Эта дорожная разметка имеет следующее назначение:



1. Обозначение стояночных мест, где указаны способы постановки механических транспортных средств на околотротуарной стоянке.
2. Обозначение мест, где запрещена остановка механических транспортных средств.
3. Обозначение остановок транспортных средств общего пользования и стоянки такси.

Отв. ` 3

Эта горизонтальная дорожная разметка обозначает:



1. Сужение проезжей части, где уменьшается количество полос движения в данном направлении.
2. Место, где водитель должен при необходимости остановиться, уступая дорогу транспортным средствам, движущимся по пересекаемой дороге.
3. Приближение к месту, где запрещена остановка.

Отв. ` 2

Разрешается ли заезжать на направляющий островок, размеченный широкими белыми линиями?



1. Разрешается только для остановки.
2. Разрешается при движении задним ходом.
3. Запрещается.

Отв. 3

Что обязан выполнить водитель транспортного средства, приблизившись к перекрестку, перед которым нанесена „Стоп-линия” и включен зеленый сигнал светофора?

1. Остановиться у „Стоп-линии”, а затем возобновить движение.
2. Продолжить движение через перекресток без остановки.

Отв. 2

Что означает эта разметка?



1. Пешеходный переход.
2. Место, где велосипедная дорожка пересекает проезжую часть.
3. Место перегона скота.

Отв. 2

Где должен водитель остановить транспортное средство при наличии этой разметки?



1. У данной разметки.
2. На данной разметке.
3. Не ближе 5 метров перед данной разметкой.

Отв. 1

Что означает эта разметка?



1. Полосу для движения транспортных средств общего пользования.
2. Полосу движения специальных автомобилей.
3. Обозначает границы полос движения, на которых осуществляется реверсивное регулирование.

Отв. 3

Разрешается ли в этом месте произвести разворот?



1. Разрешается.
2. Запрещается.

Отв. 1


Разрешается ли водителю туристического автобуса заезжать на полосу „А" при наличии данной разметки?



1. Разрешается.
2. Запрещается.

Отв. 1

Что обозначает разметка в виде широкой прерывистой линии?



1. Границу между проезжей частью и обочиной.
2. Границу между полосой разгона и основной полосой проезжей части.
3. Границу между полосой торможения и основной полосой проезжей части.

Отв. 2

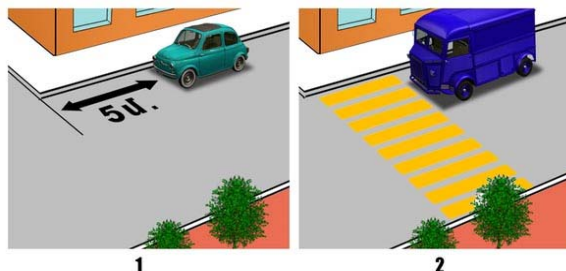
Какому автомобилю разрешается остановка в зоне действия этих знаков?



1. Красному.
2. Обоим автомобилям.
3. Ни одному.
4. Желтому, обозначенному опознавательным знаком „Инвалид".

Отв. 4


На каком рисунке водитель правильно остановил свой автомобиль для высадки пассажиров?



1. На левом рисунке.
2. На обоих рисунках.
3. На правом рисунке.

Отв. 1

Каким транспортным средствам разрешена стоянка?



1. Только мотоциклу.
2. Только грузовому автомобилю.
3. Только легковому автомобилю.
4. Легковому автомобилю и мотоциклу.
5. Всем транспортным средствам.

Отв. 4

Стоянка запрещена:

1. На мостах, эстакадах и путепроводах.
2. Под мостами, эстакадами и путепроводами.
3. Во всех перечисленных случаях.

Отв. 3


Разрешается ли произвести высадку пассажиров в месте, где нанесена по верху бордюра сплошная желтая линия в сочетании со знаком „Остановка запрещена“?.



1. Разрешается.
2. Запрещается.
3. Разрешается в отсутствии транспортных средств общего пользования.
4. Разрешается только транспортным средствам общего пользования.

Отв. 2

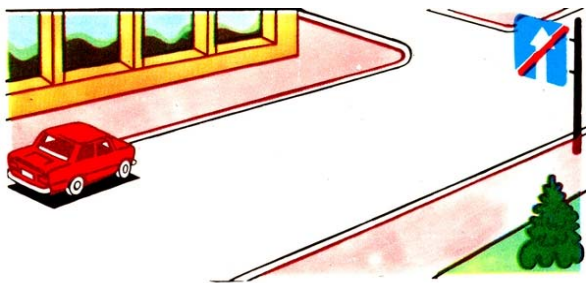
Действует ли запрещающий знак на тот участок дороги, где остановился водитель?



1. Действует.
2. Не действует.

Отв. 1

Разрешается ли стоянка автомобиля в этом месте?



1. Разрешается.
2. Запрещается.

Отв. 1

Ближе какого расстояния от железнодорожных переездов запрещается стоянка транспортных средств?

1. 300 м.
2. 150 м.
3. 100 м.
4. 50 м.
5. 25 м.

Отв. 5

Разрешается ли в данной ситуации остановиться для высадки пассажира?



1. Разрешается, если это не создает помех транспортным средствам общего пользования.
2. Запрещается.

Отв. 1

Кто из водителей обязан остановиться?



1. Водитель легкового автомобиля.
2. Водитель автобуса.
3. Оба водителя.

Отв. 1

Сигналом остановки поезда служит?

1. Круговое движение руки (днем с лоскутом яркой материи или каким-либо хорошо видимым предметом, ночью с факелом или фонарем).
2. Поднятая над головой рука с жезлом или красным флагом.
3. Вытянутая вперед рука.
4. Покачивание вверх и вниз вытянутой вперед рукой.

Отв. ` 1

В населенных пунктах, на дорогах с одной полосой движения в каждом направлении, при отсутствии трамвайных путей посередине, остановка и стоянка на левой стороне дороги:

1. Разрешается.
2. Запрещается.

Отв. ` 1

На каком расстоянии от „Стоп-линии“ или знака „Движение без остановки запрещено“ должен остановиться водитель для пропуска приближающегося поезда?

1. 1,5 м.
2. 2,5 м.
3. 5 м.
4. 10 м.
5. Непосредственно у „Стоп-Линии“ и (или) знака.

Отв. ` 5

Разрешена ли остановка в этом месте?



1. Разрешена.
2. Запрещена.

Отв. ` 2


Разрешена ли остановка автомобиля в этом месте?



1. Запрещена, так как расстояние между прерывистой линией разметки и остановившимся автомобилем менее 3 м.
2. Запрещена по четным числам месяца.
3. Разрешена.

Отв. ` 3

Водитель какого транспортного средства нарушил правила стоянки?



1. Водитель синего автомобиля.
2. Водитель красного автомобиля.
3. Оба водителя нарушили.
4. Оба водителя не нарушили.

Отв. ` 3




Где разрешается длительная стоянка транспортных средств вне населенных пунктов для отдыха, ночлега и т.д.?

1. На обочине дороги.
2. На площадках для стоянки или за пределами дороги.
3. На правой стороне проезжей части дороги, но так, чтобы не препятствовать движению других транспортных средств.
4. На левой стороне дороги, но с соблюдением мер по безопасности движения.

Отв. ` 2

Остановка запрещена, если расстояние между сплошной линией разметки и остановившимся транспортным средством составляет:



1. 6 м.
2. 5.5 м.
3. 4 м.
4. 3.5 м.
5. 2.5 м.

Отв. ` 5

Если движение через железнодорожный переезд запрещено и на нем отсутствуют светофор, дорожные знаки, разметка и шлагбаум, то водитель должен остановиться:

1. Не ближе 5 метров от ближайшего рельса .
2. Не ближе 7 метров от ближайшего рельса .
3. Не ближе 10 метров от ближайшего рельса .


Отв. ` 3

На каком расстоянии от железнодорожного переезда запрещается стоянка транспортных средств?

1. 15 м.
2. 50 м.
3. 100 м.
4. 150 м.

Отв. ` 1

В каком ответе указаны все водители, нарушившие правила остановки?



1. Водитель красного автомобиля и мотоцикла.
2. Водитель синего автомобиля.
3. Водитель мотоцикла.
4. Водители всех транспортных средств.

Отв. ` 4

Водители каких транспортных средств неправильно остановились для высадки пассажиров?



1. Водитель легкового автомобиля.
2. Водитель мотоцикла.
3. Водитель автобуса.
4. Все водители.

Отв. ` 4

Если движение через железнодорожный переезд запрещено и отсутствуют светофор, дорожные знаки и разметка, то водитель должен остановиться:

1. Не ближе 5 метров от шлагбаума.
2. Не ближе 3 метров от шлагбаума.
3. Непосредственно перед шлагбаумом.

Отв. 1

Разрешается ли водителю туристического автобуса двигаться по полосе „А“?



1. Запрещается.
2. Разрешается.

Отв. 1


Что обозначает буква „А“, нанесенная на полосе проезжей части?



1. Номер дороги (маршрута).
2. Специальную полосу, предназначенную для движения транспортных средств общего пользования.
3. Специальную полосу, предназначенную для движения транспортных средств категории „А“.

Отв. 2

Разрешается ли транспортному средству остановиться в указанном месте для высадки пассажира?



1. Разрешается.
2. Запрещается.
3. Разрешается, но поднявшись на тротуар.

Отв. 2


Разрешается ли продолжить движение по направлению, указанному стрелкой?



1. Запрещается.
2. Разрешается во всех случаях.
3. Разрешается, для остановки с целью высадки пассажиров.
4. Разрешается, с целью обгона грузового автомобиля.

Отв. 3

Такой вертикальной разметкой обозначаются:



1. Нижний край моста, тоннеля.
2. Въезд в неосвещенные тоннели.
3. Любой элемент дорожных сооружений, который создает опасность для движения.

Отв. 1



Как должен поступить водитель легкового автомобиля, если водитель автобуса начинает тормозить?



1. Продолжить движение.
2. Замедлить движение, а в случае необходимости остановиться и продолжить движение, убедившись, что на переходе нет пешеходов.
3. Остановиться и продолжить движение только в том случае, когда возобновит движение автобус.

Отв. 2

Водитель автобуса совершил остановку для посадки пассажиров. Легковой автомобиль движется со скоростью 70 км/ч. Водитель какого транспортного средства нарушил требования правил дорожного движения?



1. Никто.
2. Водитель автобуса.
3. Водитель легкового автомобиля.
4. Оба водителя.

Отв. 1

В каком из перечисленных случаев водитель автобуса может занять среднюю полосу на трехполосной дороге двустороннего движения, которая используется для движения в обоих направлениях?



1. С целью обгона или объезда.
2. С целью поворота налево или разворота.
3. В обоих перечисленных случаях.
4. Нет правильных ответов.

Отв. 3

Где должен останавливаться водитель в данной ситуации?



1. Останавливаться не обязательно.
2. Перед светофором.
3. Перед дорожной разметкой "Стоп-линия".
4. Перед пересечением полос движения.

Отв. 3

Автобус остановился, уступая дорогу пешеходам. Нарушает ли требования правил дорожного движения водитель легкового автомобиля в данной ситуации?



1. Нарушает.
2. Не нарушает.

Отв. 1

Разрешается ли водителю междугороднего автобуса останавливаться в данном месте с целью посадки пассажиров?



1. Запрещается.
2. Разрешается.

Отв. 1

Имеет ли право водитель туристического автобуса на стоянку в данном месте с целью длительного отдыха?



1. Имеет право.
2. Не имеет право.

Отв. 1

При продолжении движения налево где должен остановиться водитель автобуса, чтобы уступить дорогу легковому автомобилю?



1. Перед дорожным знаком.
2. Перед дорожной разметкой.
3. В безопасном месте, по усмотрению водителя.

Отв. 2

Где должен остановиться водитель в данной ситуации?



1. Перед первым дорожным знаком.
2. Перед дорожной разметкой "Стоп-линия".
3. Перед вторым дорожным знаком.
4. Останавливаться не обязательно.

Отв. 2

Каким транспортным средствам разрешена остановка в зоне действия данного дорожного знака?



1. Только транспортным средствам общего пользования.
2. Только транспортным средствам, управляемым инвалидами.
3. Только такси с включенным таксометром.
4. Всем запрещается.

Отв. 4

Разрешается ли совершать остановку с целью посадки пассажиров в зоне действия указанных дорожных знаков?



1. Разрешается.
2. Запрещается.

Отв. 1

Данная дорожная разметка разрешает движение:



1. Только налево.
2. Налево и в обратном направлении.
3. Только в обратном направлении.
4. Прямо, налево и в обратном направлении.

Отв. 2



Каким транспортным средствам разрешена стоянка в зоне действия данного дорожного знака?



1. Только транспортным средствам общего пользования.
2. Транспортным средствам, управляемым инвалидами, и такси с включенным таксометром.

Отв. ` 2

Что обозначает данная дорожная разметка?



1. Место посадки-высадки пассажиров.
2. Место остановки транспортных средств общего пользования.
3. Место остановки транспортных средств общего пользования и стоянки такси.

Отв. ` 2

Для каких транспортных средств выделена полоса движения, обозначенная буквой „А“?



1. Только для автобусов, которые передвигаются по установленному маршруту.
2. Для троллейбусов и такси.
3. Для транспортных средств общего пользования.

Отв. ` 3

Разрешается ли остановка и стоянка автобусов в населенных пунктах на левой стороне проезжей части дороги с односторонним движением?

1. Разрешается.
2. Запрещается.
3. Разрешается только для остановки.

Отв. ` 1

Разрешается ли остановка транспортных средств общего пользования вне мест остановок?

1. Запрещается.
2. Разрешается.

Отв. ` 1

Разрешается ли стоянка автобусов в жилых зонах и дворовых территориях?

1. Запрещается.
2. Разрешается, только в местах предназначенных для этого.
3. Разрешается.

Отв. ` 2