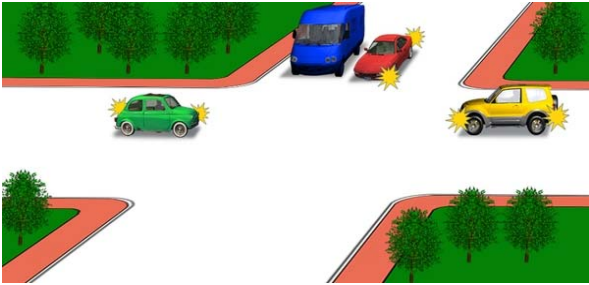



Первым проедет перекресток:



1. Красный автомобиль.
2. Синий автомобиль.
3. Желтый автомобиль.
4. Зеленый автомобиль.

Отв. ` 4

Последним проедет перекресток:



1. Синий автомобиль.
2. Зеленый автомобиль.
3. Красный автомобиль.

Отв. ` 1

Синий автомобиль проедет перекресток:



1. Первым.
2. Вторым.

Отв. ` 1

В каком ответе правильно указана очередность проезда перекрестка?



1. Автобус , легковой автомобиль, велосипед.
2. Легковой автомобиль, автобус , велосипед.
3. Велосипед, автобус, легковой автомобиль.

Отв. ` 3


Вторым проедет перекресток:



1. Трамвай.
2. Красный автомобиль.
3. Синий автомобиль.

Отв. ` 1


В каком направлении запрещено движение?



1. Направо в первый проезд.
2. Направо во второй проезд.
3. Направо в первый и второй проезды.

Отв. ` 2


Вторым проедет перекресток:



1. Зеленый автомобиль.
2. Красный автомобиль.
3. Синий автомобиль.

Отв. 2


Вторым проедет перекресток:



1. Синий автомобиль.
2. Зеленый автомобиль.
3. Красный автомобиль.

Отв. 1

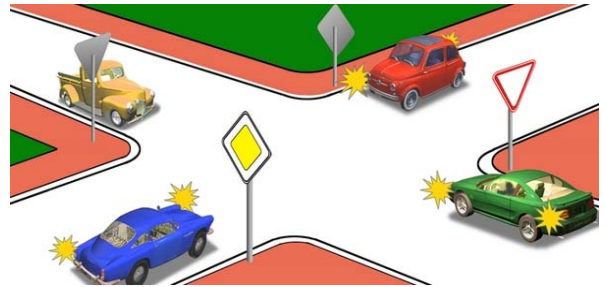
Вторым проедет перекресток:



1. Белый автомобиль одновременно с желтым.
2. Красный автомобиль.
3. Зеленый автомобиль.

Отв. 2

Последним проедет перекресток:



1. Синий автомобиль.
2. Желтый автомобиль.
3. Зеленый автомобиль.
4. Красный автомобиль.

Отв. 3

Водитель какого транспортного средства должен уступить дорогу?



1. Водитель велосипеда.
2. Водитель автомобиля.

Отв. 2


Первым проедет перекресток:



1. Зеленый автомобиль.
2. Синий автомобиль.
3. Красный автомобиль.
4. Желтый автомобиль.

Отв. 3


Транспортные средства проедут перекресток в следующем порядке:



1. Мотоцикл, автомобиль, трамвай.
2. Трамвай, автомобиль, мотоцикл.
3. Трамвай, мотоцикл, автомобиль,

Отв. 1

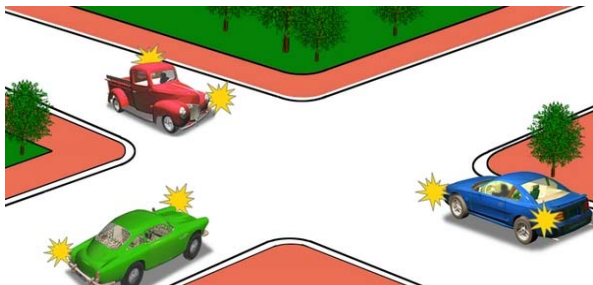
Вторым проедет перекресток:



1. Красный автомобиль.
2. Синий автомобиль.
3. Зеленый автомобиль.

Отв. 2

Последним проедет перекресток:



1. Зеленый автомобиль.
2. Синий автомобиль.
3. Красный автомобиль.

Отв. 3


Какой автомобиль последним проедет перекресток:



1. Синий.
2. Красный.
3. Зеленый.

Отв. 2

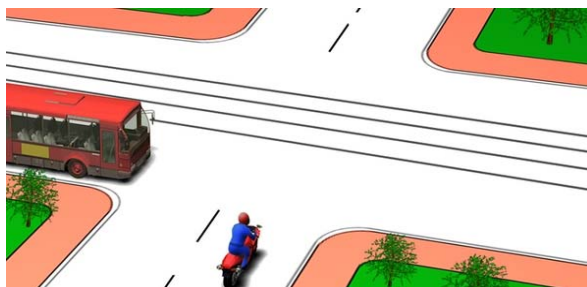
Первым проедет перекресток:



1. Зеленый автомобиль.
2. Красный автомобиль.
3. Синий автомобиль.

Отв. 1

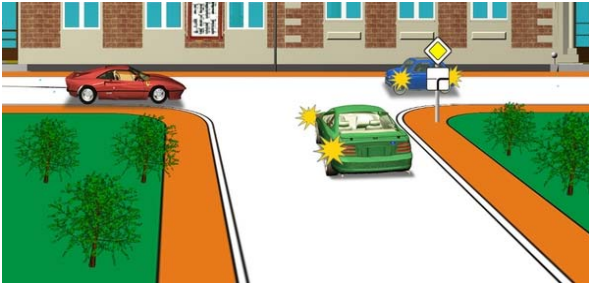
Водитель какого транспортного средства должен уступить дорогу?



1. Водитель автобуса.
2. Водитель мотоцикла.

Отв. 1

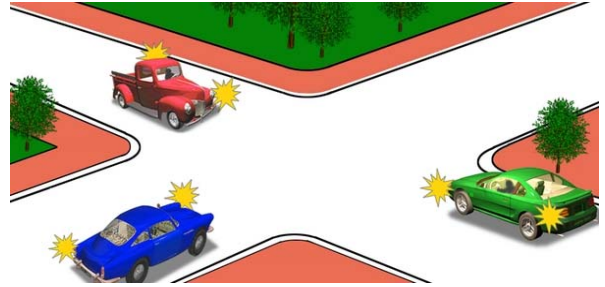
Первым проедет перекресток:



1. Красный автомобиль.
2. Зеленый автомобиль.
3. Синий автомобиль.

Отв. ` 3


Вторым проедет перекресток:



1. Синий автомобиль.
2. Зеленый автомобиль.
3. Красный автомобиль.

Отв. ` 1


Третьим проедет перекресток:



1. Синий автомобиль.
2. Желтый автомобиль.
3. Зеленый автомобиль.
4. Красный автомобиль.

Отв. ` 2

Красный автомобиль:



1. Имеет преимущество в движении, т.к. приблизился к перекрестку с круговым движением с правой стороны синего автомобиля.
2. Должен пропустить синий автомобиль, движущийся по дороге с круговым движением.

Отв. ` 1


Автомобили проедут перекресток в следующем порядке:



1. Желтый, зеленый, синий автомобиль.
2. Синий одновременно с зеленым, желтый.

Отв. ` 2


Третьим проедет перекресток:



1. Желтый автомобиль.
2. Красный автомобиль.
3. Синий автомобиль.
4. Зеленый автомобиль.

Отв. ` 3

Первым проедет перекресток:



1. Зеленый автомобиль.
2. Синий автомобиль.
3. Красный автомобиль.

Отв. 3


Транспортные средства проедут перекресток в следующем порядке:



1. Красный, зеленый, синий, черный.
2. Зеленый, красный, черный, синий.
3. Зеленый, красный, синий, черный.

Отв. 1

Транспортные средства проедут перекресток в следующем порядке:



1. Трамвай, желтый автомобиль, зеленый автомобиль.
2. Трамвай и зеленый автомобиль, желтый автомобиль.
3. Зеленый автомобиль, желтый автомобиль, трамвай.

Отв. 2

Кто из водителей имеет преимущество на первоочередное движение?



1. Водитель мотоцикла.
2. Водитель автомобиля.

Отв. 2

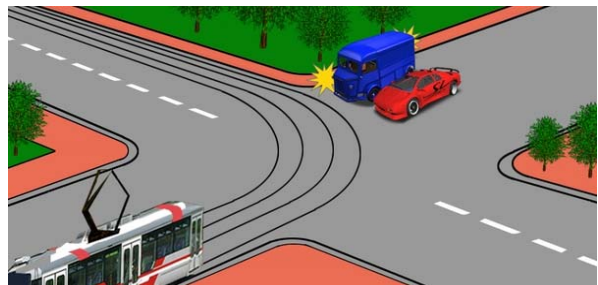
Вторым проедет перекресток:



1. Красный автомобиль.
2. Синий автомобиль.
3. Зеленый автомобиль.

Отв. 3


Водитель какого транспортного средства должен уступить дорогу?



1. Водитель трамвая.
2. Водитель грузового автомобиля.
3. Водители обоих автомобилей.

Отв. 3

Красный автомобиль проедет перекресток:



1. Первым.
2. Вторым.

Отв. 1

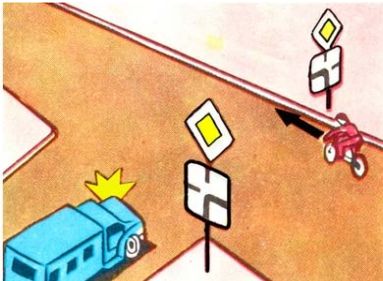
Транспортные средства проедут перекресток в следующем порядке:



1. Легковой автомобиль, автобус, велосипед.
2. Автобус, велосипед, легковой автомобиль.
3. Автобус, легковой автомобиль, велосипед.
4. Велосипед, автобус, легковой автомобиль.

Отв. 4


Водитель какого транспортного средства имеет право на первоочередное движение?



1. Водитель автомобиля.
2. Водитель велосипеда.

Отв. 2


Транспортные средства проедут перекресток в следующем порядке:



1. Трамвай, автомобиль и автобус одновременно.
2. Трамвай, автобус, автомобиль.
3. Автобус, трамвай, автомобиль,

Отв. 1


Водитель какого транспортного средства должен уступить дорогу?



1. Водитель синего автомобиля.
2. Водитель красного автомобиля.

Отв. 1


Водитель какого транспортного средства должен уступить дорогу?



1. Водитель автомобиля.
2. Водитель мотоцикла.

Отв. 2

Водитель какого транспортного средства правильно въезжает на перекресток с круговым движением?



1. Оба водителя.
2. Только водитель автобуса.
3. Только водитель легкового автомобиля.

Отв. 1


Какое транспортное средство имеет право на первоочередное движение?



1. Красный автомобиль, т.к. он въезжает на перекресток с круговым движением справа от синего автомобиля.
2. Синий автомобиль, т.к. он едет по дороге с круговым движением.

Отв. 1

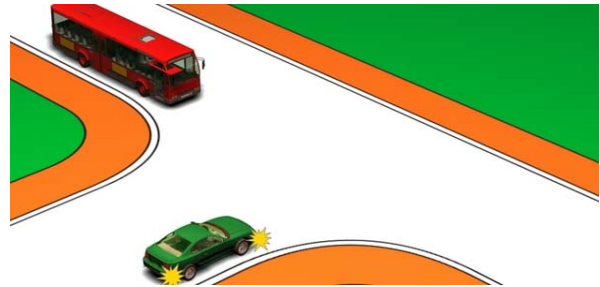
Укажите очередность проезда перекрестка:



1. Синий, красный одновременно с зеленым.
2. Красный, синий, зеленый.
3. Красный одновременно с зеленым, синий.

Отв. 3


Водитель зеленого автомобиля:



1. Имеет право на первоочередное движение.
2. Должен уступить дорогу.

Отв. 1

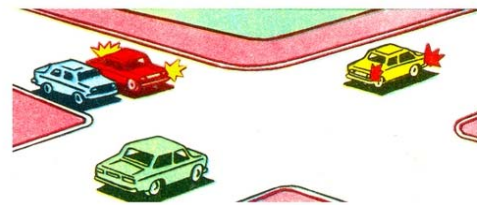
Последним проедет перекресток:



1. Красный автомобиль.
2. Синий автомобиль.
3. Зеленый автомобиль.

Отв. 3


Вторым проедет перекресток:



1. Зеленый автомобиль.
2. Красный автомобиль одновременно с синим.
3. Желтый автомобиль.

Отв. 2


Автомобили проедут перекресток в следующем порядке:



1. Синий, зеленый, красный.
2. Красный, синий, зеленый.
3. Зеленый, красный, синий.

Отв. 2


Вторым проедет перекресток:



1. Зеленый автомобиль.
2. Синий автомобиль.
3. Красный автомобиль.

Отв. 1


Красный автомобиль проедет перекресток:



1. Вторым, одновременно с синим.
2. Вторым, после желтого.
3. Третьим, после зеленого и желтого.

Отв. 1

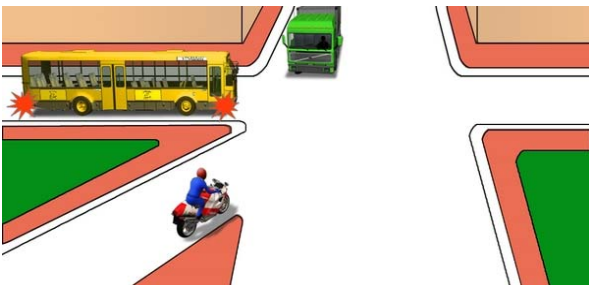
Желтый автомобиль проедет перекресток:



1. Первым.
2. Вторым.
3. Третьим.
4. Последним.

Отв. 4


В каком ответе правильно указана очередность проезда?



1. Мотоцикл, автобус, грузовой автомобиль.
2. Автобус, мотоцикл, грузовой автомобиль.
3. Автобус, грузовой автомобиль, мотоцикл.

Отв. 1

Транспортные средства проедут перекресток в следующем порядке:




1. Легковой автомобиль, автобус, трамвай.
2. Трамвай, автобус, легковой автомобиль.
3. Трамвай, легковой автомобиль, автобус.

Отв. 3



Водитель какого транспортного средства должен уступить дорогу?



1. Водитель легкового автомобиля.
2. Водитель автобуса.

Отв. 2

Какое транспортное средство должно уступить дорогу?



1. Синий автомобиль.
2. Красный автомобиль.

Отв. 1

Транспортные средства проедут перекресток в следующем порядке:



1. Желтый автобус, грузовой автомобиль, зеленый автобус.
2. Грузовой автомобиль, желтый автобус, зеленый автобус.
3. Желтый автобус, зеленый автобус, грузовой автомобиль.

Отв. 2

Транспортные средства проедут перекресток в следующем порядке:



1. Автобус, легковой автомобиль и грузовой автомобиль одновременно.
2. Легковой автомобиль и грузовой автомобиль одновременно, автобус.

Отв. 1


В каком порядке проедут перекресток транспортные средства, если светофоры не работают?



1. Троллейбус и мотоцикл, автобус и легковой автомобиль.
2. Мотоцикла, автобус и легковой автомобиль, троллейбус.
3. Автобус и легковой автомобиль, троллейбус и мотоцикл.

Отв. 2


Транспортные средства проедут перекресток в следующем порядке:



1. Грузовой автомобиль, трамвай и автобус, мотоцикл и легковой автомобиль.
2. Трамвай и автобус, мотоцикл и легковой автомобиль, грузовой автомобиль.

Отв. 1

Транспортные средства проедут перекресток в следующем порядке:



1. Автомобиль "Скорой помощи", трамвай, мотоцикл, автобус, легковой автомобиль.
2. Мотоцикл, автобус, трамвай и автомобиль "Скорой помощи", легковой автомобиль.

Отв. 2

Транспортные средства проедут перекресток в следующем порядке:



1. Грузовой автомобиль и мотоцикл, автобус, троллейбус.
2. Грузовой автомобиль и автобус, мотоцикл, троллейбус.

Отв. 1


Транспортные средства проедут перекресток в следующем порядке:



1. Грузовой автомобиль, легковой автомобиль, автобус, автоцистерна.
2. Грузовой автомобиль, автобус, легковой автомобиль, автоцистерна.

Отв. 1

Легковой автомобиль проедет перекресток:



1. Первым.
2. Вторым, после автобуса.
3. Третьим.

Отв. 2


Транспортные средства проедут перекресток в следующем порядке:



1. Легковой автомобиль, автобус, грузовой автомобиль.
2. Автобус, грузовой автомобиль, легковой автомобиль.
3. Автобус, легковой автомобиль, грузовой автомобиль.

Отв. 2


Транспортные средства проедут перекресток в следующем порядке:



1. Грузовой автомобиль, легковой автомобиль, автобус.
2. Автобус, грузовой автомобиль, легковой автомобиль.
3. Автобус, легковой автомобиль, грузовой автомобиль.

Отв. 1

Транспортные средства проедут перекресток в следующем порядке:



1. Легковой автомобиль, автобус, троллейбус.
2. Троллейбус и автобус, легковой автомобиль.
3. Троллейбус, легковой автомобиль, автобус.

Отв. 3