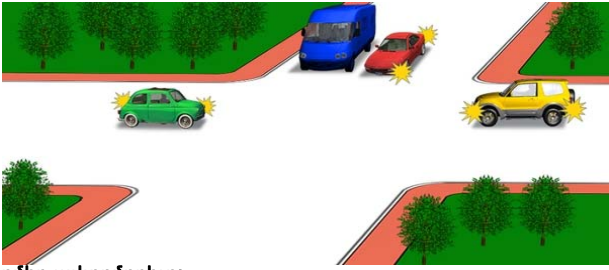


Խումբ N 5 Խաչմերուկ(նշաններով, առանց նշանների)


Խաչմերուկն առաջինը կանցնի՝



1. Կարմիր ավտոմոբիլը:
2. Կապույտ ավտոմոբիլը:
3. Դեղին ավտոմոբիլը:
4. Կանաչ ավտոմոբիլը:

Պատ.՝ 4


Խաչմերուկը վերջինը կանցնի՝



1. Կապույտ ավտոմոբիլը:
2. Կանաչ ավտոմոբիլը:
3. Կարմիր ավտոմոբիլը:

Պատ.՝ 1


Կապույտ ավտոմոբիլը խաչմերուկը կանցնի՝



1. Առաջինը:
2. Երկրորդը:

Պատ.՝ 1


Ո՞ր պատասխանում է ճիշտ նշված խաչմերուկի անցման հերթականությունը:



1. Ավտոբուս, թեթև մարդատար ավտոմոբիլ, հեծանիվ:
2. Թեթև մարդատար ավտոմոբիլ, ավտոբուս, հեծանիվ:
3. Հեծանիվ, ավտոբուս, թեթև մարդատար ավտոմոբիլ:

Պատ.՝ 3

Խաչմերուկը երկրորդը կանցնի՝



1. Տրամվայը:
2. Կարմիր ավտոմոբիլը:
3. Կապույտ ավտոմոբիլը:

Պատ.՝ 1

Ո՞ր ուղղությամբ է արգելվում երթևեկությունը:




1. Դեպի աջ՝ առաջին անցումով:
2. Դեպի աջ՝ երկրորդ անցումով:
3. Դեպի աջ՝ առաջին և երկրորդ անցումներով:

Պատ.՝ 2

Խուճար N 5 Խաչմերուկ(նշաններով, առանց նշանների)


Խաչմերուկը երկրորդը կանցնի՝



1. Կանաչ ավտոմոբիլը:
2. Կարմիր ավտոմոբիլը:
3. Կապույտ ավտոմոբիլը:

Պատ.՝ 2

Խաչմերուկը երկրորդը կանցնի՝



1. Կապույտ ավտոմոբիլը:
2. Կանաչ ավտոմոբիլը:
3. Կարմիր ավտոմոբիլը:

Պատ.՝ 1

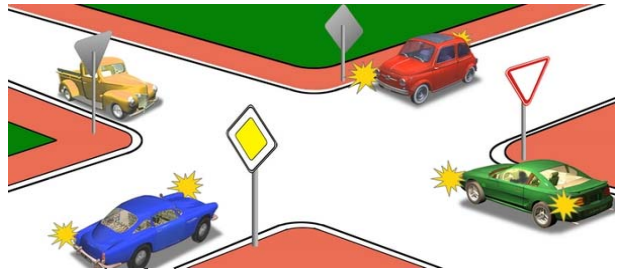
Խաչմերուկը երկրորդը կանցնի՝



1. Սպիտակ ավտոմոբիլը՝ դեղինի հետ միաժամանակ:
2. Կարմիր ավտոմոբիլը:
3. Կանաչ ավտոմոբիլը:

Պատ.՝ 2

Խաչմերուկը վերջինը կանցնի՝



1. Կապույտ ավտոմոբիլը:
2. Դեղին ավտոմոբիլը:
3. Կանաչ ավտոմոբիլը:
4. Կարմիր ավտոմոբիլը:

Պատ.՝ 3

Ո՞ր տրանսպորտային միջոցի վարորդը պետք է զիջի ճանապարհը:



1. Հեծանվորդը:
2. Ավտոմոբիլի վարորդը:

Պատ.՝ 2

Խաչմերուկն առաջինը կանցնի՝



1. Կանաչ ավտոմոբիլը:
2. Կապույտ ավտոմոբիլը:
3. Կարմիր ավտոմոբիլը:
4. Դեղին ավտոմոբիլը:

Պատ.՝ 3

Խումբ N 5 Խաչմերուկ(նշաններով, առանց նշանների)


Տրանսպորտային միջոցները ի՞նչ հերթականությամբ խաչմերուկը կանցնեն:



1. Մոտոցիկլը, ավտոմոբիլը, տրամվայը:
2. Տրամվայը, ավտոմոբիլը, մոտոցիկլը:
3. Տրամվայը, մոտոցիկլը, ավտոմոբիլը:

Պատ.՝ 1

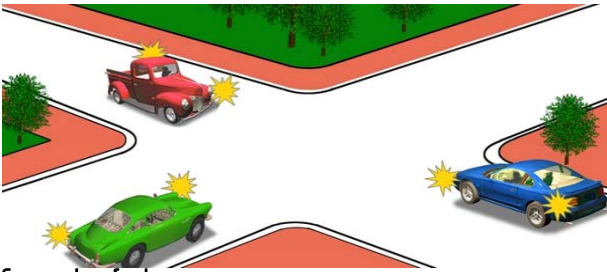
Խաչմերուկը երկրորդ կանցնի՝



1. Կարմիր ավտոմոբիլը:
2. Կապույտ ավտոմոբիլը:
3. Կանաչ ավտոմոբիլը:

Պատ.՝ 2

Խաչմերուկը վերջինը կանցնի՝



1. Կանաչ ավտոմոբիլը:
2. Կապույտ ավտոմոբիլը:
3. Կարմիր ավտոմոբիլը:

Պատ.՝ 3


Ո՞ր ավտոմոբիլը վերջինը կանցնի խաչմերուկը:



1. Կապույտը:
2. Կարմիրը:
3. Կանաչը:

Պատ.՝ 2

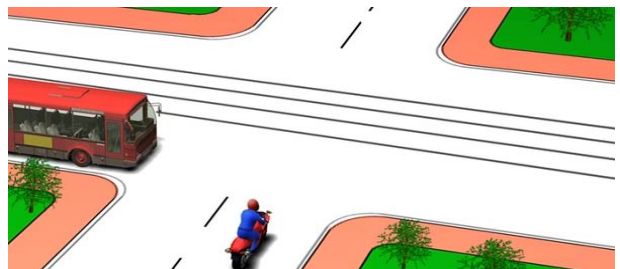
Խաչմերուկն առաջինը կանցնի՝



1. Կանաչ ավտոմոբիլը:
2. Կարմիր ավտոմոբիլը:
3. Կապույտ ավտոմոբիլը:

Պատ.՝ 1

Ո՞ր տրանսպորտային միջոցի վարորդը պետք է զիջի ճանապարհը:



1. Ավտոբուսի վարորդը:
2. Մոտոցիկլի վարորդը:

Պատ.՝ 1

Խուճար N 5 Խաչմերուկ(նշաններով, առանց նշանների)

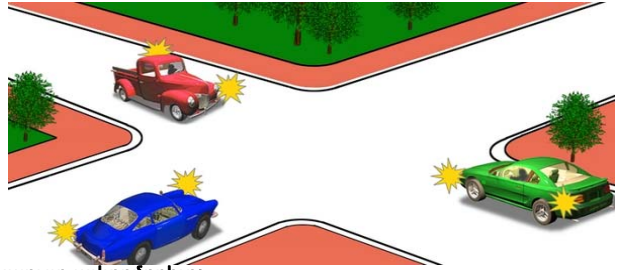
Խաչմերուկն առաջինը կանցնի՝



1. Կարմիր ավտոմոբիլը:
2. Կանաչ ավտոմոբիլը:
3. Կապույտ ավտոմոբիլը:

Պատ.՝ 3


Խաչմերուկը երկրորդը կանցնի՝



1. Կապույտ ավտոմոբիլը:
2. Կանաչ ավտոմոբիլը:
3. Կարմիր ավտոմոբիլը:

Պատ.՝ 1


Խաչմերուկը երրորդը կանցնի՝



1. Կապույտ ավտոմոբիլը:
2. Դեղին ավտոմոբիլը:
3. Կանաչ ավտոմոբիլը:
4. Կարմիր ավտոմոբիլը:

Պատ.՝ 2

Կարմիր ավտոմոբիլը՝



1. Ունի երթևեկության առավելություն, քանի որ շրջանաձև երթևեկությամբ խաչմերուկին մոտեցել է կապույտ ավտոմոբիլի աջ կողմից:
2. Պետք է ճանապարհը զիջի շրջանաձև երթևեկությամբ ճանապարհով երթևեկող կապույտ ավտոմոբիլին:

Պատ.՝ 1


Ավտոմոբիլները խաչմերուկը կանցնեն հետևյալ հերթականությամբ՝



1. Դեղինը, կանաչը, կապույտը:
2. Կապույտը՝ կանաչի հետ միաժամանակ, դեղինը:

Պատ.՝ 2

Խաչմերուկը երրորդը կանցնի՝




1. Դեղին ավտոմոբիլը:
2. Կարմիր ավտոմոբիլը:
3. Կապույտ ավտոմոբիլը:
4. Կանաչ ավտոմոբիլը:

Պատ.՝ 3

Խումբ N 5 Խաչմերուկ(նշաններով, առանց նշանների)


Խաչմերուկն առաջինը կանցնի՝



1. Կանաչ ավտոմոբիլը:
2. Կապույտ ավտոմոբիլը:
3. Կարմիր ավտոմոբիլը:

Պատ.՝ 3

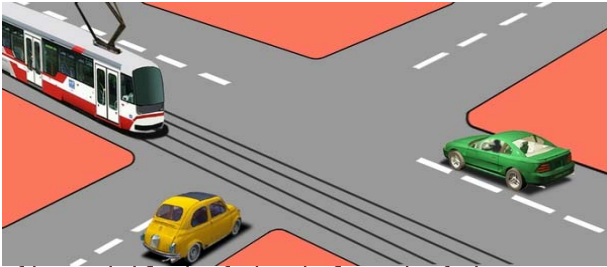
Տրանսպորտային միջոցները խաչմերուկը կանցնեն հետևյալ հերթականությամբ՝



1. Կարմիրը, կանաչը, կապույտը, սևը:
2. Կանաչը, կարմիրը, սևը, կապույտը:
3. Կանաչը, կարմիրը, կապույտը, սևը:

Պատ.՝ 1

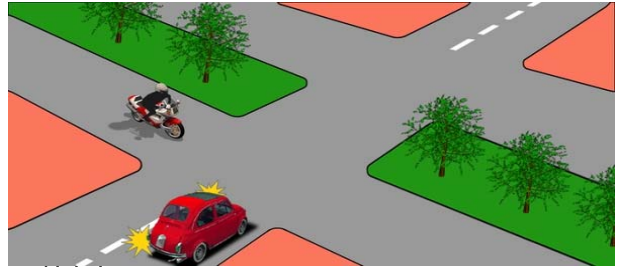
Խաչմերուկը տրանսպորտային միջոցները կանցնեն հետևյալ հերթականությամբ՝



1. Տրամվայը, դեղին ավտոմոբիլը, կանաչ ավտոմոբիլը:
2. Տրամվայը և կանաչ ավտոմոբիլը, դեղին ավտոմոբիլը:
3. Կանաչ ավտոմոբիլը, դեղին ավտոմոբիլը, տրամվայը:

Պատ.՝ 2

Վարորդներից ո՞րն ունի առաջնահերթ երթևեկության իրավունք:



1. Մոտոցիկլի վարորդը:
2. Ավտոմոբիլի վարորդը:

Պատ.՝ 2

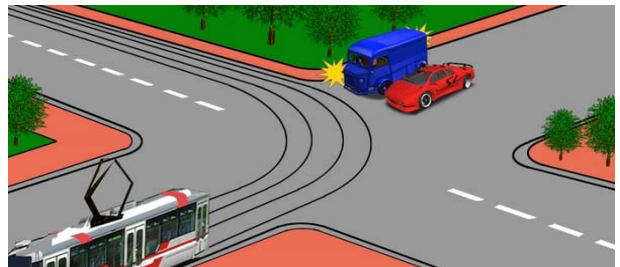
Խաչմերուկը երկրորդը կանցնի՝



1. Կարմիր ավտոմոբիլը:
2. Կապույտ ավտոմոբիլը:
3. Կանաչ ավտոմոբիլը:

Պատ.՝ 3

Ո՞ր տրանսպորտային միջոցի վարորդը պետք է զիջի ճանապարհը:




1. Տրամվայի վարորդը:
2. Բեռնատար ավտոմոբիլի վարորդը:
3. Ավտոմոբիլների վարորդները:

Պատ.՝ 3

Խումբ N 5 Խաչմերուկ(նշաններով, առանց նշանների)

Կարմիր ավտոմոբիլը խաչմերուկը կանցնի՝



1. Առաջինը:
2. Երկրորդը:

Պատ.՝ 1


Տրանսպորտային միջոցները խաչմերուկը կանցնեն հետևյալ հերթականությամբ՝



1. Թեթև մարդատար ավտոմոբիլը, ավտոբուսը, հեծանիվը:
2. Ավտոբուսը, հեծանիվը, թեթև մարդատար ավտոմոբիլը:
3. Ավտոբուսը, թեթև մարդատար ավտոմոբիլը, հեծանիվը:
4. Հեծանիվը, ավտոբուսը, թեթև մարդատար ավտոմոբիլը:

Պատ.՝ 4


Ո՞ր տրանսպորտային միջոցի վարորդն ունի առաջնահերթ երթևեկության իրավունք:



1. Ավտոմոբիլի վարորդը:
2. Հեծանվորդը:

Պատ.՝ 2


Տրանսպորտային միջոցները խաչմերուկը կանցնեն հետևյալ հերթականությամբ՝



1. Տրամվայը, ավտոմոբիլը և ավտոբուսը միաժամանակ:
2. Տրամվայը, ավտոբուսը, ավտոմոբիլը:
3. Ավտոբուսը, տրամվայը, ավտոմոբիլը:

Պատ.՝ 1


Ո՞ր տրանսպորտային միջոցի վարորդը պետք է զիջի ճանապարհը:



1. Կապույտ ավտոմոբիլի վարորդը:
2. Կարմիր ավտոմոբիլի վարորդը:

Պատ.՝ 1

Ո՞ր տրանսպորտային միջոցի վարորդը պետք է զիջի ճանապարհը:



1. Ավտոմոբիլի վարորդը:
2. Մոտոցիկլի վարորդը:

Պատ.՝ 2

Խումբ N 5 Խաչմերուկ(նշաններով, առանց նշանների)

Ո՞ր տրանսպորտային միջոցի վարորդն է ճիշտ մուտք գործում շրջանաձև երթևեկությանը խաչմերուկ:



1. Երկու վարորդներն էլ:
2. Միայն ավտոբուսի վարորդը:
3. Միայն թեթև մարդատար ավտոմոբիլի վարորդը:

Պատ.՝ 1


Ո՞ր տրանսպորտային միջոցն ունի առաջնահերթ երթևեկության իրավունք:



1. Կարմիր ավտոմոբիլը, քանի որ մուտք է գործում շրջանաձև երթևեկությանը խաչմերուկ կապույտ ավտոմոբիլի աջ կողմից:
2. Կապույտ ավտոմոբիլը, քանի որ երթևեկում է շրջանաձև երթևեկությանը ճանապարհով:

Պատ.՝ 1


Ցույց տվեք խաչմերուկի անցման հերթականությունը՝



1. Կապույտը, կարմիրը՝ կանաչի հետ միաժամանակ:
2. Կարմիրը, կապույտը, կանաչը:
3. Կարմիրը՝ կանաչի հետ միաժամանակ, կապույտը:

Պատ.՝ 3


Կանաչ ավտոմոբիլի վարորդը՝



1. Ունի առաջնահերթ երթևեկության իրավունք:
2. Պետք է զիջի ճանապարհը:

Պատ.՝ 1


Խաչմերուկը վերջինը կանցնի՝



1. Կարմիր ավտոմոբիլը:
2. Կապույտ ավտոմոբիլը:
3. Կանաչ ավտոմոբիլը:

Պատ.՝ 3


Խաչմերուկը երկրորդը կանցնի՝



1. Կանաչ ավտոմոբիլը:
2. Կարմիր ավտոմոբիլը՝ կապույտի հետ միաժամանակ:
3. Դեղին ավտոմոբիլը:

Պատ.՝ 2


Ավտոմոբիլները խաչմերուկը կանցնեն հետևյալ հերթականությամբ՝



1. Կապույտը, կանաչը, կարմիրը:
2. Կարմիրը, կապույտը, կանաչը:
3. Կանաչը, կարմիրը, կապույտը:

Պատ.՝ 2


Խաչմերուկը երկրորդը կանցնի՝



1. Կանաչ ավտոմոբիլը:
2. Կապույտ ավտոմոբիլը:
3. Կարմիր ավտոմոբիլը:

Պատ.՝ 1


Կարմիր ավտոմոբիլը խաչմերուկը կանցնի՝



1. Երկրորդը՝ կապույտի հետ միաժամանակ:
2. Երկրորդը՝ դեղինից հետո:
3. Երրորդը՝ կանաչից և դեղինից հետո:

Պատ.՝ 1

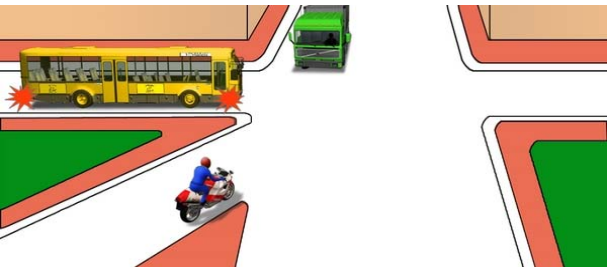
Դեղին ավտոմոբիլը խաչմերուկը կանցնի՝



1. Առաջինը:
2. Երկրորդը:
3. Երրորդը
4. Վերջինը:

Պատ.՝ 4

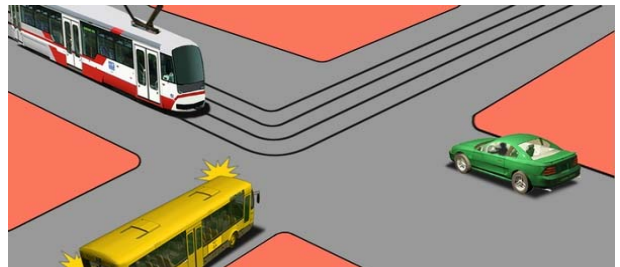
Ո՞ր պատասխանում է ճիշտ նշված անցման հերթականությունը:



1. Մոտոցիկլը, ավտոբուսը, բեռնատար ավտոմոբիլը:
2. Ավտոբուսը, մոտոցիկլը, բեռնատար ավտոմոբիլը:
3. Ավտոբուսը, բեռնատար ավտոմոբիլը, մոտոցիկլը:

Պատ.՝ 1

Տրանսպորտային միջոցները խաչմերուկը կանցնեն հետևյալ հերթականությամբ՝




1. Թեթև մարդատար ավտոմոբիլը, ավտոբուսը, տրամվայը:
2. Տրամվայը, ավտոբուսը, թեթև մարդատար ավտոմոբիլը:
3. Տրամվայը, թեթև մարդատար ավտոմոբիլը, ավտոբուսը:

Պատ.՝ 3

խումբ N 5 խաչմերուկ(նշաններով, առանց նշանների)


Ո՞ր տրանսպորտային միջոցի վարորդը պետք է զիջի ճանապարհը:



1. Թեթև մարդատար ավտոմոբիլի վարորդը:
2. Ավտոբուսի վարորդը:

Պատ.՝ 2

Ո՞ր տրանսպորտային միջոցը պետք է զիջի ճանապարհը:



1. Կապույտ ավտոմոբիլը:
2. Կարմիր ավտոմոբիլը:

Պատ.՝ 1

Տրանսպորտային միջոցները խաչմերուկը կանգնեն հետևյալ հերթականությամբ՝



1. Դեղին ավտոբուսը, բեռնատար ավտոմոբիլը, կանաչ ավտոբուսը:
2. Բեռնատար ավտոմոբիլը, դեղին ավտոբուսը, կանաչ ավտոբուսը:
3. Դեղին ավտոբուսը, կանաչ ավտոբուսը, բեռնատար ավտոմոբիլը:

Պատ.՝ 2

Տրանսպորտային միջոցները խաչմերուկը կանգնեն հետևյալ հերթականությամբ՝



1. Ավտոբուսը, թեթև մարդատար ավտոմոբիլը և բեռնատար ավտոմոբիլը միաժամանակ:
2. Թեթև մարդատար ավտոմոբիլը և բեռնատար ավտոմոբիլը միաժամանակ, ավտոբուսը:

Պատ.՝ 1


Ի՞նչ հերթականությամբ կանգնեն խաչմերուկը տրանսպորտային միջոցները, եթե լուսացույցերը չեն աշխատում՝



1. Տրոլեյբուսը և մոտոցիկլը, ավտոբուսը և թեթև մարդատար ավտոմոբիլը:
2. Մոտոցիկլը, ավտոբուսը և թեթև մարդատար ավտոմոբիլը, տրոլեյբուսը:
3. Ավտոբուսը և թեթև մարդատար ավտոմոբիլը, տրոլեյբուսը և մոտոցիկլը:

Պատ.՝ 2

Տրանսպորտային միջոցները խաչմերուկը կանգնեն հետևյալ հերթականությամբ՝



1. Բեռնատար ավտոմոբիլը, տրամվայը և ավտոբուսը, մոտոցիկլը և թեթև մարդատար ավտոմոբիլը:
2. Տրամվայը և ավտոբուսը, մոտոցիկլը և թեթև մարդատար ավտոմոբիլը, բեռնատար ավտոմոբիլը:

Պատ.՝ 1

խումբ N 5 խաչմերուկ(նշաններով, առանց նշանների)

Տրանսպորտային միջոցները խաչմերուկը կանցնեն հետևյալ հերթականությամբ՝



1. «Շտապ օգնության» ավտոմոբիլը, տրամվայը, մոտոցիկլը, ավտոբուսը, թեթև մարդատար ավտոմոբիլը:
2. Մոտոցիկլը, ավտոբուսը, տրամվայը և «Շտապ օգնության» ավտոմոբիլը, թեթև մարդատար ավտոմոբիլը:

Պատ.՝ 2

Տրանսպորտային միջոցները խաչմերուկը կանցնեն հետևյալ հերթականությամբ՝



1. Բեռնատար ավտոմոբիլը և մոտոցիկլը, ավտոբուսը, տրոլեյբուսը:
2. Բեռնատար ավտոմոբիլը և ավտոբուսը, մոտոցիկլը, տրոլեյբուսը:

Պատ.՝ 1


Տրանսպորտային միջոցները խաչմերուկը կանցնեն հետևյալ հերթականությամբ՝



1. Բեռնատար ավտոմոբիլը, թեթև մարդատար ավտոմոբիլը, ավտոբուսը, ավտոցիստեռնը:
2. Բեռնատար ավտոմոբիլը, ավտոբուսը, թեթև մարդատար ավտոմոբիլը, ավտոցիստեռնը:

Պատ.՝ 1

Թեթև մարդատար ավտոմոբիլը խաչմերուկը կանցնի՝



1. Առաջինը:
2. Երկրորդը՝ ավտոբուսից հետո:
3. Երրորդը:

Պատ.՝ 2

Տրանսպորտային միջոցները խաչմերուկը կանցնեն հետևյալ հերթականությամբ՝



1. Թեթև մարդատար ավտոմոբիլը, ավտոբուսը, բեռնատար ավտոմոբիլը:
2. Ավտոբուսը, բեռնատար ավտոմոբիլը, թեթև մարդատար ավտոմոբիլը:
3. Ավտոբուսը, թեթև մարդատար ավտոմոբիլը, բեռնատար ավտոմոբիլը:

Պատ.՝ 2

Տրանսպորտային միջոցները խաչմերուկը կանցնեն հետևյալ հերթականությամբ՝



1. Բեռնատար ավտոմոբիլը, թեթև մարդատար ավտոմոբիլը, ավտոբուսը:
2. Ավտոբուսը, բեռնատար ավտոմոբիլը, թեթև մարդատար ավտոմոբիլը:
3. Ավտոբուսը, թեթև մարդատար ավտոմոբիլը, բեռնատար ավտոմոբիլը:

Պատ.՝ 1

Տրանսպորտային միջոցները խաչմերուկը կանցնեն հետևյալ հերթականությամբ՝



1. Թեթև մարդատար ավտոմոբիլը, ավտոբուսը, տրոլեյբուսը:
2. Տրոլեյբուսը և ավտոբուսը, թեթև մարդատար ավտոմոբիլը:
3. Տրոլեյբուսը, թեթև մարդատար ավտոմոբիլը, ավտոբուսը:

Պատ.՝ 3